

令和6年度 弘学館入学試験  
中学校 社会問題

1 次の各文を読んで、あとの問いに答えなさい。

(1) 福岡県の板付遺跡では、今から約(①)年前の稲作のあとが見つかっています。狩りや漁を中心とする暮らしをいとなんだ(②)時代が終わり、稲作により安定した暮らしが出来るようになった弥生時代に入るのは、このころだと考えられています。なお、近年では、弥生時代の始まりは、さらに数百年さかのぼるとい説も出てきています。

問1 空欄(①)に入る数として適当なものを、次のア～エより一つ選びなさい。

- ア 5,300    イ 4,300    ウ 3,300    エ 2,300

問2 空欄(②)に入る適当な語句を、漢字で答えなさい。

(2) 奈良時代の農民は、政府から割り当てられた田を耕し、③稲の収穫の約3%を地方政府に納め、④地方の特産物を中央政府に納めました。この他にも、労役の負担や兵役の負担があり、⑤農民の生活は苦しいものでした。

問3 下線部③・④について、それぞれの負担を何とよびますか。組み合わせとして正しいものを、次のア～カより一つ選びなさい。

- ア ③-租 ④-庸    イ ③-租 ④-調    ウ ③-庸 ④-調  
エ ③-庸 ④-租    オ ③-調 ④-租    カ ③-調 ④-庸

問4 下線部⑤について、次の二つは、きびしい税に苦しむ農民の暮らしを思いやった貴族の歌と、故郷を遠く離れて兵役についた東国の農民の歌です。これらの作品を収めた和歌集の名を漢字で答えなさい。

・あめつち ひろ天地は 広しといへど わ たため き吾が為は 狭くやなりぬる  
・にちげつ あか日月は 明しといへど たま吾が為は 照りや給はぬ

(天地は広いというが、私にとっては狭くなってしまった。日月は明るいというが、私のためには照ってはくれない。)

・ちちはは かしら父母が 頭 かきなで き幸くあれて ことば わすいひし言葉ぜ 忘れかねつる

(父母が、私の頭をかきなでて「無事に…」と言った言葉が忘れられない)

(3) 鎌倉時代から室町時代にかけて、農業の技術が進歩しました。土を深く耕すため、(⑥)製のすきを牛馬に引かせたり、(⑦)を肥料として用いたり、⑧米を収穫した後の田に麦を植えたりして、農民たちは、収穫を増やしました。生産力が高まってくると、

問5 空欄(⑥)・(⑦)に入る語句の組み合わせとして正しいものを、次のア～エより一つ選びなさい。

- ア ⑥-青銅 ⑦-草や木の灰    イ ⑥-青銅 ⑦-ほしか・油かす  
ウ ⑥-鉄 ⑦-草や木の灰    エ ⑥-鉄 ⑦-ほしか・油かす

問6 下線部⑧について、このような農地の利用のしかたを何とよびますか。漢字で答えなさい。

問7 空欄に入る文として**適当でないもの**を次のア～エより一つ選びなさい。

- ア 特産物の生産もさかんになり、それらを取り引きする市も、月に3回開かれるなど、回数が増えた。  
イ 農産物を原材料とする手工業も発達し、和紙、布、漆器などが商品として生産された。  
ウ 農民たちは、自分たちの生活を守るために団結し、共同で作業を行ったり、領主に抵抗したりするようになった。  
エ 裕福な農民の中には、東海道の旅や神社への参拝、寄席、歌舞伎などの娯楽を楽しむ人々も現れた。

(4) 江戸時代には、農業技術がいつそう進歩しました。備中ぐわや⑩千歯こきなどの農具が発明され、新田開発によって⑪耕地面積も増加しました。これによって、幕府や藩の年貢収入は増えてきましたが、貨幣を用いる経済の発達により支出は収入以上に増え、⑫財政は苦しくなっていました。

問8 下線部⑩について、これは何をするための道具ですか。簡潔に答えなさい。(意味が正しければ、ひらがなを使ってもよい)

問9 下線部⑪について、江戸時代の初めに約160万町歩ちょうぶだった耕地面積は、およそ100年後の江戸時代中ごろには、どのくらいに増えましたか。次のア～エより一つ選びなさい。(1町歩はおよそ1ヘクタールと考えてよい)

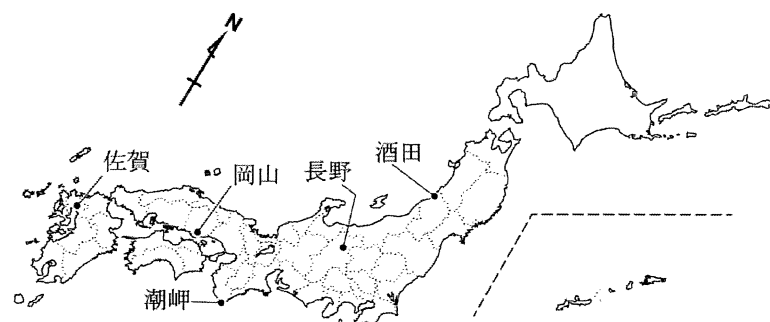
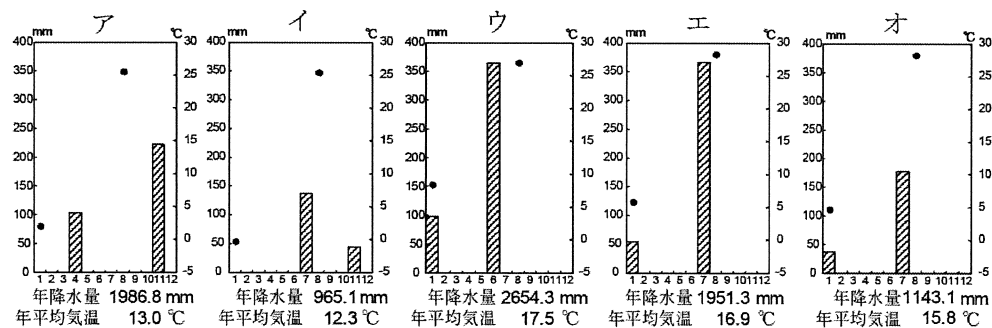
- ア 約200万町歩    イ 約300万町歩    ウ 約400万町歩    エ 約500万町歩

問10 下線部⑩について、幕府や藩の財政が苦しくなったことへの対策に関係の深い出来事を、次の年表中のア～カより二つ選びなさい。

1600年	ア ポルトガル船の来航が禁止され、「鎖国」政策が完成する
	イ 将軍徳川綱吉が、「生類憐れみの令」とよばれる極端な動物愛護令を出す
1700年	ウ 将軍徳川吉宗が、享保の改革を行い、きびしい儉約(節約)を命じる
	エ 杉田玄白・前野良沢らが、オランダ語の医学書を翻訳した『解体新書』を出版する
	オ 佐賀藩の弘道館など、諸藩で藩校の設立がさかんになる
1800年	カ 伊能忠敬が全国の海岸線を測量し、正確な日本地図を作成する

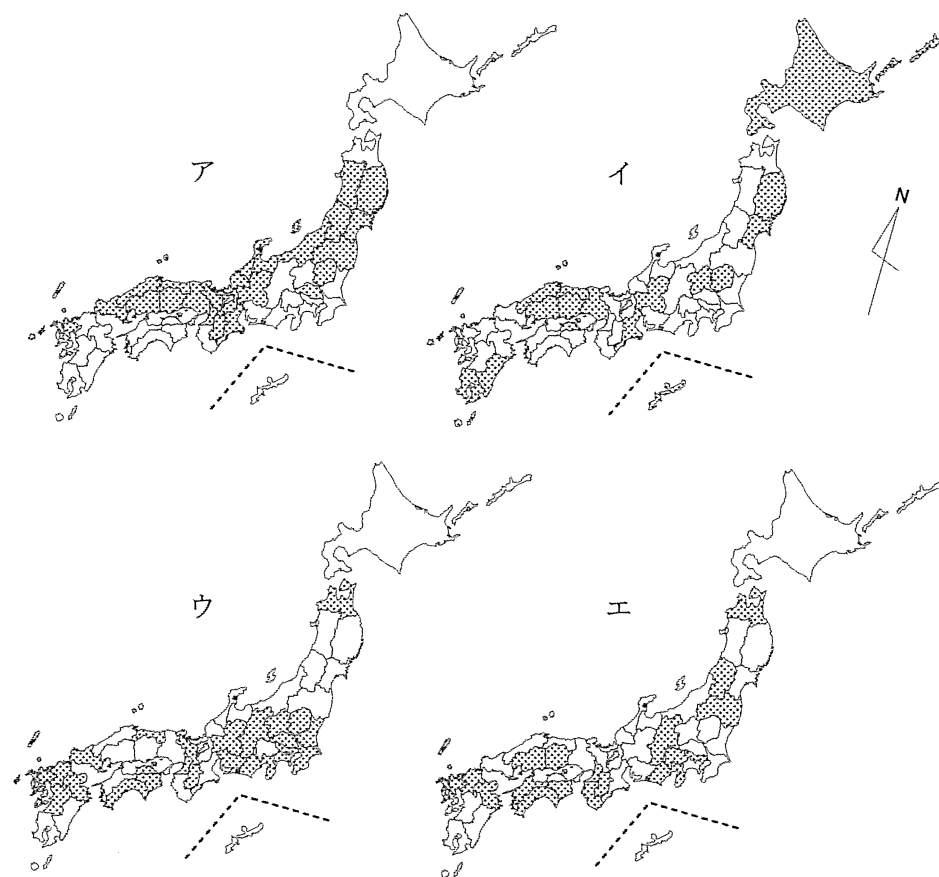
2 あとの各問いに答えなさい。

問1 次のア～オのグラフは、下の地図に示した5つの地点における気温と降水量のうち、最も平均降水量の多い月と少ない月(棒グラフ)と、最も平均気温の高い月と低い月(黒点)だけを示したものです。岡山と酒田にあてはまるグラフを、ア～オより一つずつ選びなさい。



問2 次のa～dの文は、米、野菜、果実、畜産のいずれかの生産地の持ちょうを説明したものです。また、あとのア～エの地図は、米、野菜、果実、畜産のいずれかについて、各都道府県の農畜産物の総産出額に占める割合が、全国平均の割合を超えている都道府県を着色したものです。b・dの農畜産物にあてはまる地図を、ア～エより一つずつ選びなさい。

- a 大規模な用地を確保しやすい地域で、また地層が火山灰で出来ている場所や、あるいは高原や台地など、やせ地であったり、水はけがよいところで生産されることが多い。
- b 温暖な気候、あるいは寒冷な気候を利用して、他の地域と時期をずらして出荷ができる地域、または生産物を新鮮なうちに消費者にとどけられる地域などで生産される。
- c 河川の流域に大きな盆地や平野が広がり、その中でも機械化のための大規模な土地の整備が進んだ地域で生産がさかんである。また夏の高温や日照が生育に大きく関係する。
- d 斜面や台地、扇状地などの地形を利用して、日射にめぐまれた場所を好む品種や、寒暖差の大きい場所を好む品種など、その品種にあった気候の地域で生産される。



全国平均	米 18.5%	野菜 25.7%	果実 9.8%	畜産 36.0%	その他10.0%
------	---------	----------	---------	----------	----------

(統計年次は2021年。『データブック・オブ・ザ・ワールド 2023』より作成)

問3 熊本県で建設中の台湾のT社の大規模な工場が、今年から生産を開始します。この工場で生産される工業製品は、1980年代に九州で製造がさかんになりましたが、他国との競争が激しく、今回の工場建設が、九州の経済活性化につながるのではと期待されています。このことに関連して、あとの(1)・(2)に答えなさい。

(1) あとのア～エの文は、次の①～④のいずれかの製品について、工場の立地の特ちょうを説明したものです。T社と同じ製品にあてはまる説明を、ア～エより一つ選びなさい。

- ① 輸送用機械器具    ② 食料品    ③ 電子部品・回路等    ④ 石油化学工業

- ア 関連部品の工場から近く、部品を工場に運んだり、完成品を都市に輸送するさいに、高速道路等が利用しやすい場所に工場が設置されることが多い。
- イ 製造工程できれいな水や空気が必要で、また製品は航空機やトラックで一度に大量に輸送できるため、都市から離れた地方にも工場が進出しやすい。
- ウ 原料をほぼ海外からの輸入にたよっており、また作られた製品が他の工業で材料として利用されることが多く、関係する工場が一か所に集まることが多い。
- エ 原料の保存が難しいことが多いため、その場合は原料産地の近くで加工される。トラックや鉄道、船などで温度を管理しながら都市圏に輸送される。

(2) 次の表のア～エは、熊本県、岡山県、群馬県、山形県、北海道について、(1)の①～④のいずれかの製品の出荷額が、各道県の工業(製造業)製品の出荷額全体に占める割合を示したものです。熊本県に進出するT社と同じ製品にあてはまる数値をア～エから一つ選びなさい。

	岡山	群馬	山形	北海道	熊本
ア	7.2%	9.5%	11.5%	36.6%	13.7%
イ	30.0%	8.8%	9.6%	16.2%	5.1%
ウ	3.6%	2.3%	17.7%	3.5%	12.0%
エ	13.1%	37.3%	4.5%	6.4%	13.7%

(統計年次は2019年。『データブック・オブ・ザ・ワールド 2023』をもとに作成)

問4 昨年、栃木県宇都宮市で新しいLRT(路面電車的一种)が営業を開始しました。今まで線路がなかった場所に新たな路面電車の線路が建設されるのは、日本では75年ぶりのことです。これに関して書かれた次の文について、あとの(1)～(3)に答えなさい。

人々が ① を持つようになると、多くの都市で路面電車が廃止され、他の公共交通機関でも廃止や減便が進んだ。しかし、今後 ① での移動が困難な ② が人口に占める割合が年々増加することを予測し、それ以外にも③様々な効果があることを期待して、JR宇都宮駅前から約15km先の工業団地を結ぶLRTが新たに建設された。

(1) ① にあてはまる語句を、漢字4字で答えなさい。

(2) ② にあてはまるのは、どのような人々と考えられるか答えなさい。

(3) 下線部③について、LRT が開通することで期待できる効果として**適当でないもの**を、次のア～エより一つ選びなさい。

- ア 天候や、時間帯による渋滞などに左右されず、ほぼ正確な時刻で移動が可能である。
- イ 駅前と郊外とを移動する他の移動手段に比べて、地球環境への影響を少なくできる。
- ウ 自分の好きな時間に出発し、目的地に直接行ったり、荷物を届けることができる。
- エ 駅前をおとずれる人が増え、中心市街地の商店や飲食店などの売り上げが増える。

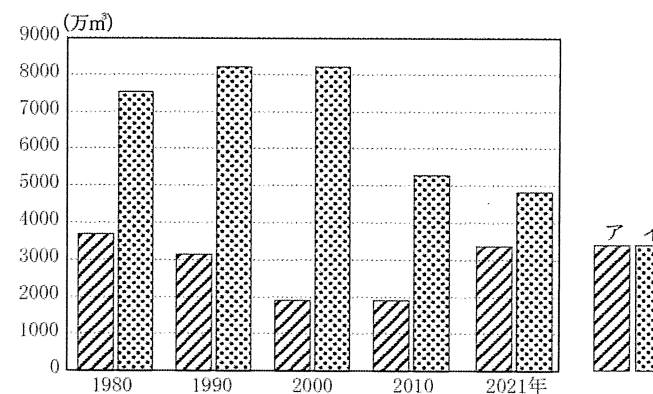
問5 福岡市では現在、「天神ビッグバン」という再開発が進んでいます。かつてIMS(イムズ)というビルがあった跡地では、外壁に木材を利用した20階建ての高層ビルの建設が進んでいます。これに関連して書かれた次の文を読み、あとの(1)～(3)に答えなさい。

日本では高度経済成長期まではさかんに植林が行われたが、その後、後継者の不足などで ① などの手入れが不十分な森林が増え、山が荒廃し、②災害の心配も増加している。しかし近年、 ① によって出た小さな木材を加工して強度や耐火性を高め、ビルの外壁や家屋、家具などへ利用する技術が発達し、東京でも高さ100mの「木造ビル」の建設が始まるなど、森林の環境の再生や、国産材の利用の促進がはかられている。

(1) ① に入る語句を、漢字またはかな交じりで答えなさい。

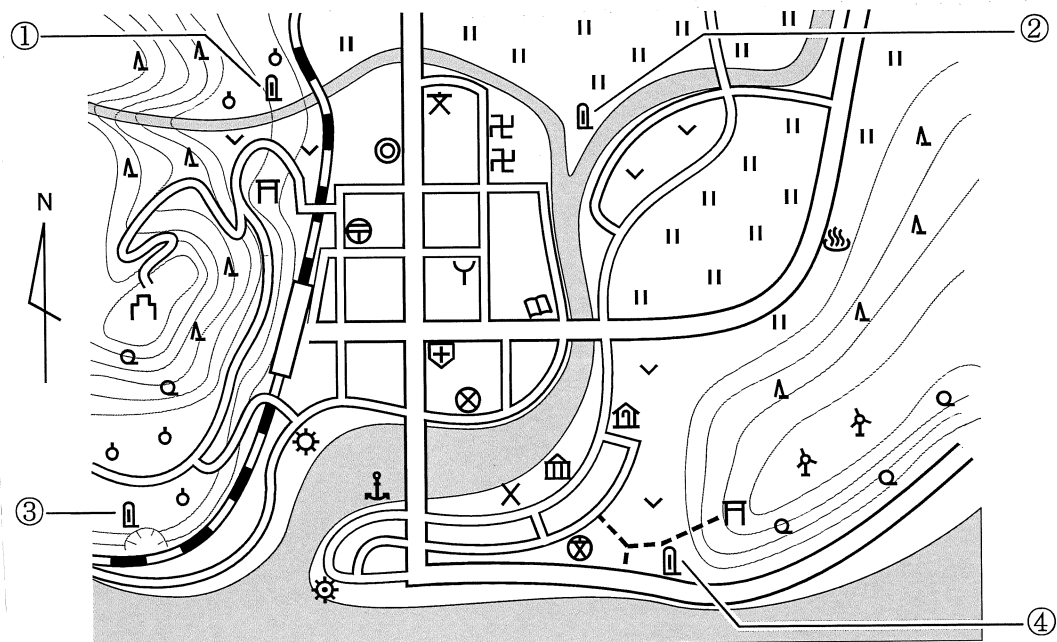
(2) 下線部②について、手入れが不十分で、森林が荒廃すると、気象によっては災害が発生しやすくなる場合があります。どのような災害が発生すると考えられますか。簡潔に答えなさい。

(3) 次のグラフは、日本で利用される木材について、国産材と外材(輸入材)のいずれかの量の推移を示しています。国産材は、ア・イのどちらか答えなさい。



(『日本国勢図会 2023/24』より作成)

問6 次の地形図をみて、あとの(1)～(3)に答えなさい。



(実在の都市ではなく、この問題のために作った地形図であり、以下の問いの災害や施設も、この地形図にもとづいた設定である)

(1) 最近あらたに作られた地図記号に「自然災害伝承碑」があります。次のア～エは、地形図中の①～④いずれかの自然災害伝承碑に記された内容を示したものです。②の位置にある碑の内容として最も適当と考えられるものを、ア～エより一つ選びなさい。

- ア 明治26年8月に上流の山に厚い雲がかかり、とつぜんはげしい音とともに山から土石流が流れてきて、扇状地に広がるミカン畑や野菜畑が土砂でうまった。
- イ 大正12年の6月に大雨が降り続き、川の水位が上がって、降った雨水が川に流れずに逆流し、農作物が泥水にしずんだり、住宅地が床上まで浸水するなどの被害が出た。
- ウ 昭和8年1月6日の昼に大地震があり、地震の30分後に海面が大きく盛り上がり、陸をおそい、海岸の家々が流された。村の人々は裏山の神社に避難して助かった。
- エ 昭和8年1月6日の大地震で斜面がくずれ、家々が土砂に埋まった。ミカン畑で働いていた人たちは、その日の夜は畑にとどまり、翌朝波が静まってから村に降りた。

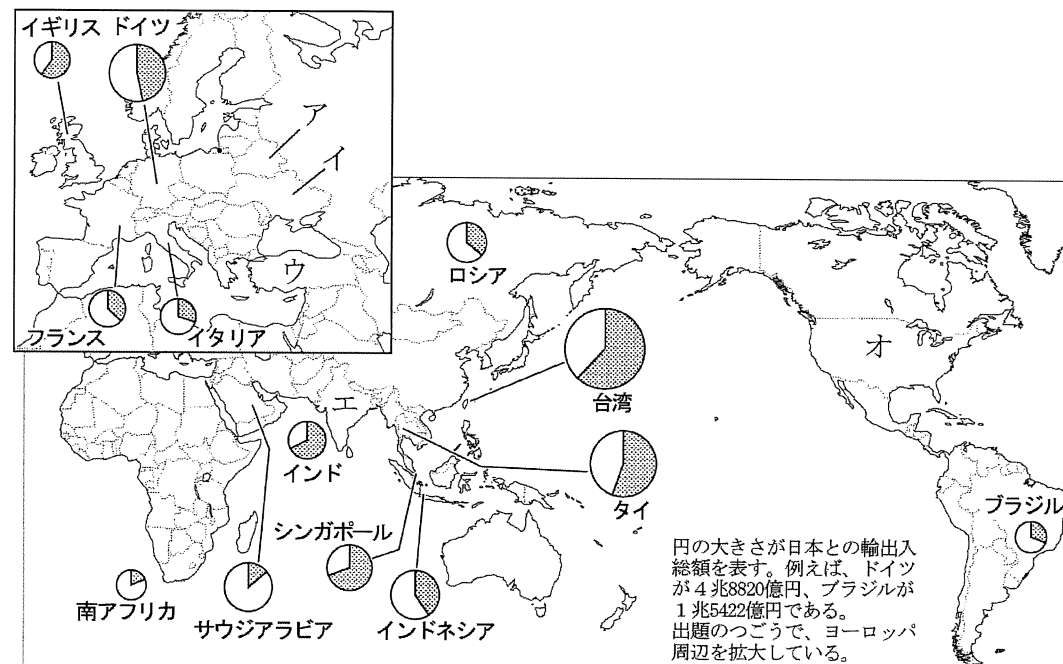
(2) 次のア～エは、この地形図にみられるいずれかの施設について、施設まで行く道をたずねられた4人がどう説明したかをのべています。警察署と消防署について説明したものを、ア～エより一つずつ選びなさい。

- ア 小学校の前で道をきかれたケンジさんは、東にすすんで角を曲がり、お寺を見ながら南に進んで、三つ目の交差点を東に曲がったところです、と説明しました。
- イ 駅前まで道をきかれたユウイチロウさんは、駅からの大通りを進んで二つ目の交差点を南へ曲がり、橋の手前で東に曲がった道にそって行って下さい、と説明しました。
- ウ 市役所前で道をきかれたトシアキさんは、南へ進んで病院の角を曲がり、橋を渡り、しばらく大通りを行くと見えますが、遠いのでバスで行くと良いですよ、と説明しました。
- エ 老人ホームの前で道をきかれたフミヒコさんは、北に進んでから、西に向かって大通りの橋を渡り、三つ目の交差点を曲がって北に進むと左に見えますよ、と答えました。

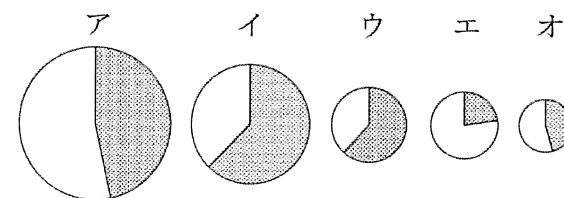
(3) 地形図中の等高線は、海面からの高さ20mごとに引かれています。お城跡がある山と、風力発電所がある山の高さの差に最も近いものを、次のア～エより一つ選びなさい。

- ア 40m    イ 60m    ウ 80m    エ 120m

問7 次の世界地図をみて、次の(1)・(2)に答えなさい。



(1) 地図中のグラフは、日本と世界の国・地域との貿易について、輸出入総額(億円)を円の大きさであらわし、着色部分が日本からの輸出額、白い部分が日本への輸入額を示しています。次のア～オは、このうちアメリカ、オーストラリア、韓国、中国、ベトナムのいずれかのグラフを抜き出したものです。韓国にあてはまるグラフをア～オより一つ選びなさい。



(2) 次の①～③は、世界地図中に示したア～オのいずれかの国について書かれたものです。①～③にあてはまる国を、ア～オより一つずつ選びなさい。

- ① 2024年はこの国で4年に一度の大統領選挙が行われる。民主党の現大統領は再選をねらい、対抗する共和党からは、前回選挙で敗戦した前大統領も立候補を表明している。
- ② 2023年9月、この国でG20サミットが開かれた。この国のモディ首相はG7広島サミットにも招待され、「グローバル・サウス」と呼ばれる国々を代表する役割を果たしている。
- ③ 2022年2月24日、隣国からの攻撃を受け、戦争が続いている。ゼレンスキー大統領は欧米や日本に広く支援を呼びかけ、また穀物価格が高騰するなど世界的な影響も大きい。

- 3 家族でNHK大河ドラマを見ているヒロシさんは、過去20年間の作品について、登場するおもしろい人物を調べ、時代順に並べて表を作りました。この表およびヒロシさんと先生の会話について、あとの問いに答えなさい。

表 ※時代順は、主人公の生まれた年（推定を含む）の順

題名	登場するおもしろい人物	放送年
光る君へ	紫式部、清少納言、①藤原道長	2024年
平清盛	②平清盛、後白河法皇、源頼朝	2012年
義経	源義経、源頼朝、後白河法皇	2005年
鎌倉殿の13人	源頼朝、北条政子、北条義時	2022年
風林火山	武田信玄、上杉謙信	2007年
麒麟がくる	明智光秀、織田信長、豊臣秀吉	2020年
おんな城主 直虎	武田信玄、徳川家康、織田信長	2017年
どうする家康	徳川家康、豊臣秀吉、織田信長	2023年
軍師官兵衛	豊臣秀吉、織田信長、徳川家康	2014年
功名が辻	織田信長、明智光秀、豊臣秀吉	2006年
天地人	豊臣秀吉、石田三成、徳川家康	2009年
真田丸	豊臣秀吉、徳川家康、石田三成	2016年
江～姫たちの戦国～	徳川家康、織田信長、明智光秀	2011年
西郷どん	西郷隆盛、大久保利通、木戸孝允	2018年
龍馬伝	坂本龍馬、岩崎弥太郎、後藤象二郎	2010年
篤姫	西郷隆盛、大久保利通、徳川慶喜	2008年
青天を衝け	③渋沢栄一、徳川慶喜、大隈重信	2021年
花燃ゆ	吉田松陰、井伊直弼、④伊藤博文	2015年
八重の桜	西郷隆盛、大久保利通、板垣退助	2013年
⑤いだてん～東京オリムピック 焔～	大隈重信、犬養毅、高橋是清	2019年

(NHKのホームページを参考に作成)

ヒロシさんと先生との会話

ヒロシ： 調べてみると、舞台となっている時代にかたよりがありませんね。

先生： 戦国時代は人気がありますから。とくに、⑥織田信長が登場してから豊臣秀吉、そして徳川家康までのドラマは、天下統一をめざして戦う各人物を俳優さんたちが個性的に演じていて、どれも見ごたえがあります。

ヒロシ： 次に多いのは幕末かな。

先生： ⑦近代の幕が開け江戸幕府が倒されるまでの時代そのものに関心を持つ人は多いです。なにより、この時代は⑧坂本龍馬や西郷隆盛などの魅力あふれる人物がたくさん出てきますからね。

ヒロシ： 源頼朝もよく登場しています。

先生： 彼は、⑨初めての本格的な武家政権をつくったすぐれた指導者ですが、むほん人とされた弟の義経のほうが、悲劇のヒーローとして人気があります。

ヒロシ： しかし、女性の登場人物は少ないですね。

先生： 大事な視点ですよ。女性を主人公とする作品はいくつかあります。もちろん創作が

加えられていますが、激動の時代に、自分らしさをつらぬいて生きた人物として描かれています。ヒロシさんが女性を主人公にして大河ドラマをつくるとしたら、誰を選びますか。

ヒロシ： ( A ) を主人公にしたいです。それは、( B ) 人だからです。

先生： それはいい作品ができそうですね。

問1 下線部①について、この人物が活躍したころの貴族の暮らしや文化について述べた文として、正しいものの組み合わせを、下のア～エより一つ選びなさい。

- a たたみ、障子、ふすまなどを使った日本独自の建築様式が完成した。貴族は、茶の湯、生け花などを楽しみ、能、狂言などの芸能を鑑賞した。
- b 貴族は、寝殿造りとよばれる広い屋敷に住み、和歌の他、囲碁やけまりなどを楽しんだ。儀式や年中行事を先例どおりに行うことが重んじられた。
- c 仏教の力で人々の不安を取り除き、国家の安定をはかろうとする思想から、都には大仏が造立された。
- d 社会の不安から逃れるため、貴族たちは阿弥陀仏にすがって極楽浄土に行くことを求め、阿弥陀堂を建立した。

ア aとc イ aとd ウ bとc エ bとd

問2 下線部②について、この人物は、武士として初めて権力の頂点に立ちましたが、どちらかというところ、貴族である①の人物との共通点が注目されます。その共通点について述べた文として、正しいものの組み合わせを、下のア～エより一つ選びなさい。

- a 政治的な争いは、武士団の実力ですべて解決した。
- b 高い位や朝廷内での重要な役職を一族で独占した。
- c 娘を天皇のきさきとし、生まれた子を次の天皇にして、天皇の親戚となった。
- d 裁判の基準となる法をつくり、武士の領地に関する権利を守った。

ア aとc イ aとd ウ bとc エ bとd

問3 下線部③について、この人物には多くの業績がありますが、その一つを述べた次の文の  I  に入る適切な語句を答えなさい。

日本で初めての  I  として、第一国立  I  を設立した。

問4 下線部④について、この人物の業績として**誤っているもの**を、次のア～エより一つ選びなさい。

- ア 岩倉具視らとともにアメリカ・ヨーロッパを視察した。
- イ 日本で初めての政党をつくった。
- ウ 初代の内閣総理大臣をつとめた。
- エ 大日本帝国憲法をつくる中心人物となった。

問5 下線部⑤について、この作品は昭和の「戦後」までを描いています。日本では、一般に第二次世界大戦で昭和天皇が日本の降伏をラジオ放送で国民に伝えた日を「終戦」の日とし、その後の時代を「戦後」とよびます。「終戦」は、西暦何年何月何日ですか。

問6 下線部⑥について、次のa～cは、各人物について述べています。正しい文(正)か、誤っている文(誤)か、組み合わせとして正しいものを、下のア～カより一つ選びなさい。

- a 織田信長は、キリスト教を禁止し、したがわない大名を次々にほろぼした。
- b 豊臣秀吉は、検地と刀狩りで、武士と農民の身分を明確に分けようとした。
- c 徳川家康は、関ヶ原の戦いに勝利した後、征夷大將軍の地位についた。

- ア a-正 b-正 c-誤      イ a-正 b-誤 c-正      ウ a-正 b-誤 c-誤
- エ a-誤 b-正 c-正      オ a-誤 b-正 c-誤      カ a-誤 b-誤 c-正

問7 下線部⑦について、次のa～cは、この間に起こった出来事です。年代の古い順に正しく並べたものはどれですか、下のア～カより一つ選びなさい。

- a 薩長連合(薩長同盟)が結ばれる
- b 下田と函館の二港が開港される
- c 日本がアメリカに治外法権を与える

- ア a→b→c      イ a→c→b      ウ b→a→c      エ b→c→a      オ c→a→b      カ c→b→a

問8 【削除】

問9 下線部⑧について、源頼朝と主従関係を結び、この政権をささえた武士たちを何と呼びますか。漢字で答えなさい。

問10 ( A )に入る人物を、次のア・イより一人選び、( B )に入る業績や行動を10字以上20字以内で書きなさい。(ア・イのどちらを選んでもかまいません)

- ア 与謝野晶子      イ 平塚らいてう

**4** 次の文は、小学6年生のテツヤさんとナオミさんの間の、学校の社会科の授業で学んだ世界の各地で起こる紛争の単元についての会話の一部です。これを読んであとの問いに答えなさい。

テツヤ： 紛争って言葉、これまで聞いたことはあったけど、国と国が何らかの理由で対立して起こる争いだと思ってた。でも、勉強してみると、その理由にもいろいろとあって、国どうしだけでなく、一つの国内で起こっている紛争もあるんだね。

ナオミ： 政治的・経済的な理由だけでなく、民族や①宗教の問題などから、国や勢力が対立して争っている状態を紛争というって習ったわね。そして、その多くで武力が用いられていることもね。

テツヤ： 地図帳で調べてみたけど、紛争は世界のさまざまな地域で起きているんだね。こうした紛争で多くの人の命が失われたり、②それまでの生活を奪われた人たちがいるんだ。どうしたら、こうした紛争をなくすことができるんだろう。

ナオミ： 紛争が起こる前の話し合いや、③平和を守るために協力し合うことが大切ね。こうした紛争のほかにも世界にはたくさんの課題があるわ。テツヤさんはどんな課題が思い浮かぶかしら？

テツヤ： まずは④環境問題かな。あとは、貧困の問題とかね。

ナオミ： そうした問題の解決のために⑤国際連合(国連)がはたす役割は大きいわ。もちろん、私たち日本人も問題解決のためにかかわっているのよ。

問1 下線部①に関して、イスラム教について述べた文として**誤っているもの**を、次のア～オより**二つ選びなさい**。

- ア 1日に5回、聖地メッカに向かって祈りをささげる。
- イ 男女が同席することや女性の行動が制限されている。
- ウ 中国の孔子という人物が広めた教えで、上下関係や伝統などを重視する。
- エ ハロウィンや感謝祭など、宗教に関係する季節の行事がある。
- オ 豚肉を食べてはいけないなど、飲食に関するきまりがある。

問2 下線部②について、空爆などで家を失い、自分の国や地域にいられなくなり、ほかの国などに逃げなければならなくなった人のことを何といいますか。漢字2字で答えなさい。

問3 下線部③について、国際協力の分野で活躍する人々に関して述べたaとbの正誤の組合せとして正しいものを、次のア～エより一つ選びなさい。

- a 政府による国際協力の活動をODA（政府開発援助）といい、青年海外協力隊がその一例で、教育や医療、農業などの分野で知識や技術をもった人たちが活躍している。
- b 国連や各国の政府から独立して活動する民間の団体をNGO（非政府組織）といい、ユニセフがその一例で、その活動は、主に募金や寄付金、ボランティアなどで支えられている。

- ア aー正 bー正                   イ aー正 bー誤
- ウ aー誤 bー正                   エ aー誤 bー誤

問4 下線部④について、次の写真のできごとの原因と考えられるものを、次のア～エより一つ選びなさい。



＜大潮の日に海水で浸水するツバルの首都フナフティ＞  
(出典：NHKアーカイブス)

- ア 地球温暖化
- イ 水や大気の汚染
- ウ 熱帯雨林の減少
- エ 砂漠化や酸性雨

問5 下線部⑤に関する次の文を読み、各問いに答えなさい。

国連は、豊かな生活と環境とのバランスをとりながら **あ** な社会を実現するため、さまざまな取り組みをおこなってきた。2015年（平成27年）に開いた、国連気候変動枠組条約を結んだ国々の会議では、地球温暖化の対策についての話し合いがおこなわれ、**い** ガスの削減を定めた。

また、同じ2015年に開いた「**あ** な開発サミット」では、2030年までの行動計画が立てられ、「**あ** な開発目標（SDGs）」がその中心となった。

- (1) **あ** ・ **い** に入る語句を、それぞれ漢字4字で答えなさい。
- (2) 国連に関して述べた文として誤っているものを、次のア～エより一つ選びなさい。

- ア 世界の平和と安全を守るため、51カ国で発足した。
- イ 本部は、アメリカ合衆国のニューヨーク市にある。
- ウ 日本は唯一の戦争被爆国として、軍備の縮小を訴えている。
- エ 日本の自衛隊は、平和維持活動に参加したことはない。

5 次の表は、国民の祝日の一部を示したものです。これを読んで、あとの問いに答えなさい。

1月1日	元日	新しい一年の始めを祝う
1月の第2月曜日	成人の日	大人になったことを自覚し、みずから生き抜こうとする青年を祝いはげます
2月11日	建国記念の日	国がつけられた昔を思い、国を愛する心を養う
2月23日	①天皇誕生日	天皇の誕生日を祝う
3月21日ごろ	春分の日	自然をたたえ、生物をいつくしむ
[ ② ]	憲法記念日	③日本国憲法の施行を記念し、国の成長を願う
9月の第3月曜日	敬老の日	長い間社会につくしてきた老人を敬愛し、長生きを祝う
9月23日ごろ	秋分の日	祖先をうやまい、なくなった人を思い出す
11月23日	④勤労感謝の日	勤労を尊び、生産を祝い、国民がたがいに感謝しあう

問1 下線部①について、次のa～dのうち、天皇の主な仕事（国事行為）として正しいものはいくつありますか。下のア～エより一つ選びなさい。

- a 外国と条約を結ぶ。
- b 衆議院の解散を決める。
- c 国会を召集する。
- d 内閣総理大臣を指名する。

- ア 1つ                   イ 2つ                   ウ 3つ                   エ 4つ

問2 [ ② ] にあてはまる日付を、解答らんにはうように答えなさい。

問3 下線部③について、次の文は、日本国憲法前文（要旨）です。**あ** ・ **い** に入る語句を、それぞれ漢字2字で答えなさい。

わたしたちは、世界がいつまでも平和であることを、心から願います。わたしたちは平和と**あ** を愛する世界の人々の心を信頼して、平和を守っていきたくと思います。

わたしたちは平和を守り、**い** で明るい生活を築こうと努力している国際社会のなかで、名誉ある国民になることをちかいます。わたしたちは、全世界の人々が、みな**い** に、恐怖や欠乏もなく、平和な状態で生きていくことができる権利をもっていることを、確認します。

問4 下線部④について、日本国憲法では「仕事について働く義務（勤労の義務）」をはじめ、国民に対し三つの義務を定めています。**あとの二つ**を次のア～オより選びなさい。

- ア 働く人が団結すること。
- イ 政治に参加すること。
- ウ 税金を納めること。
- エ 健康で文化的な生活を営むこと。
- オ 子どもに教育を受けさせること。