

高等学校 社会問題

1 夏休みの自由課題として、弘太郎くんは、ある年度に日本や世界で起こった出来事を調べ、下の表にまとめた。あとの問いに答えよ。

月	出来事	月	出来事
4	①個人情報保護法の施行	10	⑥鳥取県人権侵害救済条例の制定
5	②高額納税者番付(長者番付)最後の公示	11	耐震強度偽装事件が発覚
6	③アスベスト(石綿)健康被害の表面化	12	⑦総務省統計局が人口減少の速報公表
7	知床半島が世界自然遺産への登録決定	1	⑧ライブドアショック(株式市場の暴落)
8	④イスラエルがガザ地区からの撤退を開始	2	⑨ネバダ州で米英合同の臨界前核実験
9	⑤第44回衆議院議員総選挙の実施	3	⑩日本銀行が量的金融緩和政策を解除

問1 下線部①に関連して、世の中にあふれるさまざまな情報を、適切に活用できる基礎能力のことを何と
いうか、カタカナ5字で答えよ。

問2 下線部②に関連して、直接税かつ地方税の税目として正しいものを、次のア～エのうちから一つ選べ。
ア 所得税 イ 法人税 ウ 消費税 エ 固定資産税

問3 下線部③に関連して、公害問題について述べた次の文中の〔 A 〕・〔 B 〕に入る語句の組み合わせとして正しいものを、下のア～エのうちから一つ選べ。

高度経済成長は、私たちの生活水準を飛躍的に向上させた一方、深刻な公害問題を引き起こし、カドミウムを原因とする〔 A 〕に関する訴訟などが起こった。このような事態に対し、政府は、1967年に〔 B 〕を制定、1971年に環境庁(現環境省)を設置するなどの対策を講じた。

- ア A 新潟水俣病 B 公害対策基本法 イ A イタイイタイ病 B 公害対策基本法
ウ A 新潟水俣病 B 環境基本法 エ A イタイイタイ病 B 環境基本法

問4 下線部④に関連して、第二次世界大戦後に起こった地域紛争の名称と地図上の位置およびその内容の組み合わせとしてもっとも適切なものを、あとのア～エのうちから一つ選べ。



	名称	位置	内容
ア	シリア内戦	㉔	アサド政権と反政府勢力の争いを基軸とする内戦
イ	チェチェン紛争	㉕	チェチェン共和国(仏教徒が多数)のロシアからの独立問題
ウ	カシミール紛争	㉖	インドとパキスタンのカシミール地方をめぐる領有権争い
エ	ルワンダ内戦	㉗	フツ族(多数派)とツチ族(少数派)の間の民族紛争

問5 下線部⑤に関連して、比例代表(総議席数10)の選挙結果が下の表のようになった場合、E党の獲得議席数は何議席になるか。

政党名	C党	D党	E党
得票数	1,200	900	300

問6 下線部⑥に関連して、基本的人権の一つである社会権について述べた文として誤っているものを、次のア～エのうちから一つ選べ。

- ア 居住、移転及び職業選択をする権利
イ 能力に応じて等しく教育を受ける権利
ウ 健康で文化的な最低限度の生活を営む権利
エ 団結権・団体交渉権・団体行動権の労働三権

問7 下線部⑦に関連して、次の記事の〔 F 〕に入る適切な語句を答えよ。

厚生労働省は2日、1人の女性が生涯に産む子どもの数を示す〔 F 〕が2022年は1.26だったと発表した。05年に並んで過去最低となった。低下は7年連続で、新型コロナウイルス禍での婚姻数の低迷などが影響した。社会や経済の活力を維持できるかの瀬戸際にあり、出産や子育てなどへの若年層の経済不安を取り除くための対策が急務となる。(日本経済新聞 2023.6.2)

問8 下線部⑧に関連して、株式について述べた文章の正誤の組み合わせとして正しいものを、次のア～エのうちから一つ選べ。

- a 会社が利益を上げたとき、株主はその持ち株数に応じて、利子を受け取ることができる。
b 株券として発行されていた株式は、現在は電子化され、ペーパーレス化が実現している。
ア a 正 b 正 イ a 正 b 誤 ウ a 誤 b 正 エ a 誤 b 誤

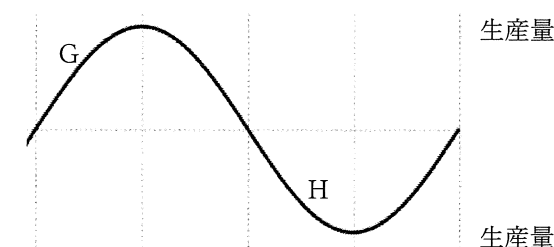
問9 下線部⑨に関連して、核兵器を巡る近年の動向について述べた文として誤っているものを、次のア～エのうちから一つ選べ。

- ア 2015年、科学者による核廃絶運動であるパグウォッシュ会議が長崎で開かれた。
イ 2017年、核兵器禁止条約が採択され、唯一の被爆国として日本は批准をした。
ウ 2019年、ローマ教皇が来日し、広島などを訪問して核兵器の廃絶を呼びかけた。
エ 2021年、黒い雨訴訟では、高等裁判所において原告全員が被爆者と認定された。

問10 下線部⑩に関連して、図1を参照しながら、景気を安定化させるべく政府や日銀が行う政策として適切なものを、次のア～クのうちから二つ選べ。

- ア 政府がGの時期に、減税を行う。
イ 政府がGの時期に、増税を行う。
ウ 日銀がGの時期に、減税を行う。
エ 日銀がGの時期に、増税を行う。
オ 政府がHの時期に、国債を買う。
カ 政府がHの時期に、国債を売る。
キ 日銀がHの時期に、国債を買う。
ク 日銀がHの時期に、国債を売る。

図1 景気変動(景気循環)の概念図



2 次のA・Bの文を読んで、あとの問いに答えよ。

A 7世紀初め、隋を滅ぼして唐が中国を統一した。唐は律令に基づく中央集権体制により、強大な帝国となった。663年に起こった白村江の戦いで、唐・①新羅連合軍に敗北した日本は、唐にならって律令制を取り入れ、国力の伸張をはかった。班田収授の法に基づいて口分田を班給し、②さまざまな税を徴収したり、兵役を課したりした。701年、大宝律令が完成すると、③遣唐使を送って律令が完成したことや「日本」という新たな国号を採用したことなどを報告した。律令制の下では、④ヤマト政権時代の豪族は貴族と呼ばれるようになり、太政官や八省などで働くこととなった。多くの役人が必要になると、平城京が造営された。奈良時代は天皇中心の政治が行われたが、やがて藤原氏が台頭し、平安時代中期になると⑤摂関政治が確立した。

問1 下線部①について述べた文として誤っているものを、次のア～エのうちから一つ選べ。

- ア 6世紀になると勢力を強め、ヤマト政権と関係の深かった伽耶地域の国を滅ぼした。
- イ 7世紀後半、唐と結んで百済・高句麗を次々と滅ぼし、朝鮮半島を統一した。
- ウ 8世紀前半、日本と対立して北部九州に兵を送ったが、防人によって撃退された。
- エ 10世紀前半、唐が滅ぶと新羅の国力も衰え、やがて高麗によって滅ぼされた。

問2 下線部②について述べた文として適当なものを、次のア～エのうちから一つ選べ。

- ア 6歳以上の男子に与えられた口分田の面積に応じ、収穫量の約3%の米を納める租を負担した。
- イ 国司の命令で、都で10日間の労役に従事するか、そのかわりに米を納める庸という税を負担した。
- ウ 国司の命令で、都におもむき、年間60日を上限に労働に従事する雑徭と呼ばれる労役を負担した。
- エ 成人男性(21～60歳)3～4人に1人が兵として徴集されて各国で訓練を受け、その中から防人などに送られた。

問3 下線部③に関して、遣唐使やそれに伴って唐に渡った人物、また唐から来日した人物について述べた文として誤っているものを、次のア～エのうちから一つ選べ。

- ア 阿倍仲麻呂のように唐で役人になって皇帝に仕えたが、帰国できなかつた者もいた。
- イ 鑑真は苦難の末に来日し、正式な仏教を伝えるとともに、唐招提寺を建立した。
- ウ 9世紀初めに最澄と空海は唐に渡って仏教を学び、帰国後に新たな仏教を広めた。
- エ 菅原道真は唐から帰国後に、唐の衰退や航海の危険から、894年に遣唐使派遣の停止を願い出た。

問4 下線部④に関して、5世紀の内政や外交について述べた文として適当なものを、次のア～エのうちから一つ選べ。

- ア 蘇我馬子が物部氏を滅ぼして女性の推古天皇を即位させ、厩戸皇子と政治を行った。
- イ 邪馬台国から魏に使いが送られ、皇帝から「親魏倭王」の金印や銅鏡を授けられた。
- ウ 倭王武を含む「倭の五王」たちは、高い称号を求めて中国南朝に朝貢した。
- エ 中大兄皇子は中臣鎌足らと協力し、豪族の土地や人民を国家が支配することとした。

問5 下線部⑤について、藤原氏はどのような方法で摂関政治を実現したか、次の X に入る文を答えよ。

娘を天皇と結婚させ、 X ことで、摂政・関白の地位についた。

B 平安時代後期になると⑥武士が台頭し、寺院では僧兵という軍事力を使って荘園関係の争いごとを解決することが増えた。天皇にかわって上皇が力を持つようになり、⑦院政が開始された。やがて上皇も多くの荘園を持つようになり、皇室領の荘園群が形成されていった。日本の土地は荘園と公領から編成されるように変化した。荘園と公領から成る土地制度は、地頭や守護などの侵略を受けながらも、鎌倉時代・室町時代を経て、豊臣秀吉が実施した⑧太閤検地によって荘園が崩壊するまで続くこととなった。

問6 下線部⑥について、武士による次のア～エの争乱を、起こった順に並べよ。

- ア 後三年合戦 イ 平将門の乱 ウ 平治の乱 エ 保元の乱

問7 下線部⑦について、次のア～エの上皇を、院政を行った順に並べよ。

- ア 後白河上皇 イ 鳥羽上皇 ウ 後鳥羽上皇 エ 白河上皇

問8 下線部⑧について、次の(1)・(2)に答えよ。

(1) 太閤検地によって武士と農民との身分の区別が明確になったことを何というか。

(2) 農民身分の固定はどのように行われたか、下の Y に入る文を10字以内で答えよ。

実際に耕作している百姓は Y ことで、農民とされた。

3 次の文は、出身地の異なる4人の中学生が、それぞれの出身都道府県について語ったものである。これを読んで、あとの問いに答えよ。

Aさん

僕の出身地は、学生服やジーンズの一大生産地だよ。沿岸部は鉄鋼や石油化学などの重化学工業がさかんで、臨海型の工業地域の一部を形成しているよ。農業ではモモやブドウなどの果樹栽培が有名だよ。2018年には西日本一帯を襲った豪雨により甚大な被害を受けてしまった。このような災害は日本各地で起こりうることであり、①さまざまな対策をとることが必要だと思うよ。

Bさん

私の出身地は北海道で、②生産量全国第1位の農産物が多く、食品工業がさかんになっていますよ。一方で、太平洋に面した都市では鉄鋼や石油化学などの重化学工業も行われています。③雪の多い地域では住宅のつくりを工夫するなど、雪に備えてさまざまな対策がとられているのも大きな特色です。また、④道庁所在地の札幌市には、人口の約3分の1が集中しています。

Cさん

僕の出身地は農業がさかんで、全国的に知られている銘柄米もあるよ。⑤一番の中心都市では8月に米の豊作を願って東北三大祭りの一つが行われていて、全国から観光客が訪れるよ。伝統的工芸品で有名なものに「大館曲げわっぱ」というものがあるよ。江戸時代に藩の奨励で発展したそうだよ。空港や高速道路が整備された近年になって、I Cなどの電子機械工業が進出しているよ。

Dさん

私の出身地に広がる讃岐平野は、温暖な気候だけど Y ⑥ という特色があるよ。だから米作りにはあまり適さず小麦が栽培されていたんだ。うどん麵に必要な小麦が手に入り、うどんのコシに必要な塩の産地、また、ダシに使用されるしょう油の産地でもあったということで、うどんが有名になったそうよ。多くのため池があることや、他県を流れる河川の水を引いていることでも知られているよ。私の県とAさんの出身地の都道府県は、1988年に完成した〔 ⑦ 〕によって結ばれたよ。⑧この橋の開通により、周辺地域にはさまざまな変化が起こったみたいだね。

問1 下線部①について、次の(1)・(2)に答えよ。

(1) 日本では、災害の危険性が高まったときにいくつかの段階に分けて避難をよびかける情報が出されるようになってきている。現行の避難情報について述べた文として誤っているものを、次のア～エのうちから一つ選べ。

- ア 警戒レベル5は、すでに災害が発生または切迫した状況であり、命の危険が極めて高く、緊急に安全を確保する必要がある。「緊急安全確保」が発令される。
- イ 警戒レベル4は、災害のおそれが高い状況であり、住民は危険な場所から全員避難する必要がある。「避難指示」が発令される。
- ウ 警戒レベル3は、災害のおそれがある状況であり、危険な場所から高齢者とその介助者のみに避難の必要がある。「高齢者等避難」が発令される。
- エ 警戒レベル2は、気象状況悪化の状況であり、自らの避難行動を確認する必要がある。「大雨注意報」や「洪水注意報」などの注意報が発令される。

(2) 災害が発生した時の協力・支援に関して述べた次の文中の [a] ~ [c] に入る語句を、それぞれ漢字2字で答えよ。

国や都道府県、市区町村などが災害時に被災者の救助や支援を行うことを [a] という。しかし、災害時には [a] に頼るだけでなく、自分自身や家族を守る [b] や、住民どうしが協力して助けあう [c] とよばれる行動をとることが求められている。

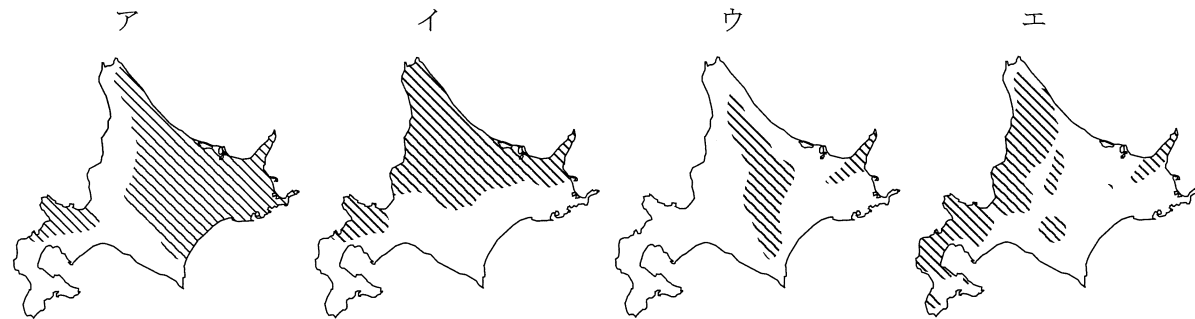
問2 下線部②について、次の資料は、たまねぎ・大豆・小麦・てんさいのいずれかの農産物の都道府県別生産量割合を示したものである。Iの農産物にあてはまるものを、あとのア～エのうちから一つ選べ。また、Xにあてはまる九州地方の県名を答えよ。

	第1位	第2位	第3位	全国計
I	北海道 (100%)	—	—	3,545,000 t
II	北海道 (61.8%)	福岡 (7.6%)	X (5.7%)	993,500 t
III	北海道 (60.7%)	X (9.2%)	兵庫 (9.1%)	1,096,000 t
IV	北海道 (44.9%)	宮城 (6.5%)	秋田 (4.7%)	242,800 t

(2021年産または2022年産、『日本国勢図会 2023/24』より作成)

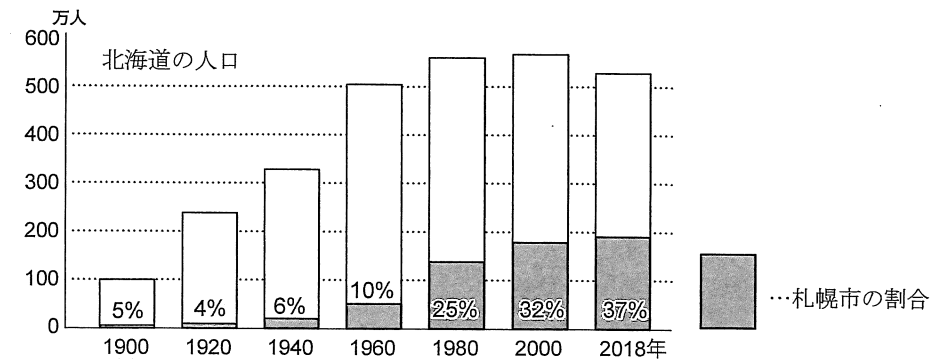
- ア たまねぎ イ 大豆 ウ 小麦 エ てんさい

問3 下線部③について、北海道における最深積雪が1m以上の地域を示している地図として正しいものを、次のア～エのうちから一つ選べ。



(周辺の島は省略している。)

問4 下線部④について、次のグラフは北海道と札幌市の人口の変化を示したものである。1960年から1980年の間に札幌市の人口が増加した背景として正しいものを、あとのア～エのうちから一つ選べ。



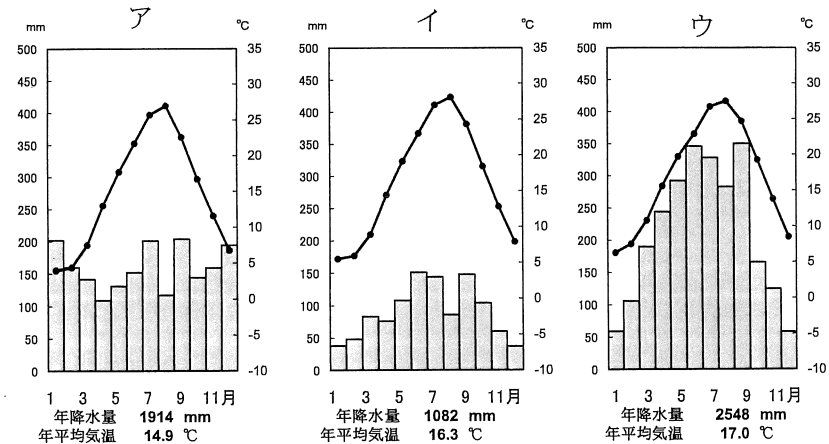
(『第127回北海道統計書』ほかより作成)

- ア バブル経済の崩壊により地価が下落し、札幌市に新興住宅地が建設された。
- イ 北海道内の炭鉱の閉山が相次ぎ、仕事を求めて札幌市に移り住む人が増えた。
- ウ 1960年代の2度の石油危機により、札幌市とそれ以外の経済格差が拡大した。
- エ 客土により大規模農業が可能となり、札幌市に移住する農家が多かった。

問5 下線部⑤について、この都市で行われている祭りの名称を、次のア～エのうちから一つ選べ。なお、祭りの名称に付いている地名はここでは省略している。

- ア セタまつり イ ねぶた祭 ウ 花笠まつり エ 竿燈まつり

問6 ⑥には、讃岐平野の気候の特色を説明する文が入る。⑥に入る文の根拠となる雨温図として適当なものを、次のア～ウのうちから一つ選べ。



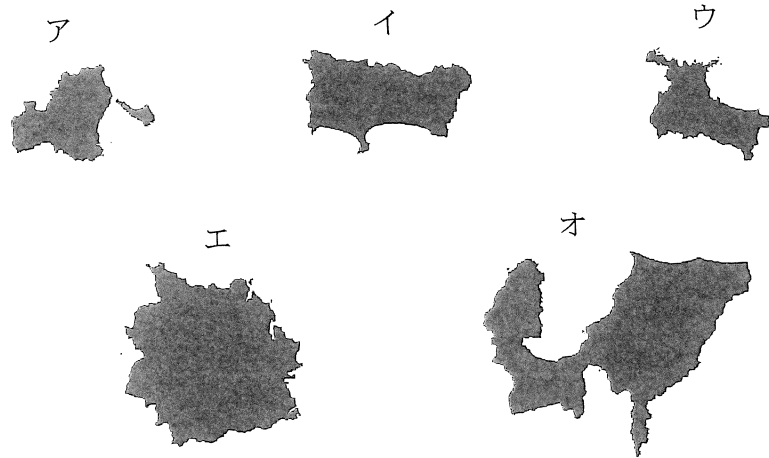
(『2019年版 理科年表』より作成)

問7 [⑦] に入る語句を答えよ。

問8 下線部⑧について、AさんとDさんは、この橋の開通によりどのような変化が生じたのかを一緒に調べてみた。調査結果として誤っているものを、次のア～エのうちから一つ選べ。

- ア トラック輸送で橋を使用して、野菜や魚介類を遠い大都市へ出荷できるようになった。
- イ 橋は上が自動車、下は列車が走るという2層構造になっており、この橋を使った通勤や通学が拡大した。
- ウ 橋によって結びつけられた両地域の都市に買い物客が流れていくストロー現象がみられ、地方経済が活性化された。
- エ フェリーが減便や航路廃止となり、自動車をもたない人や高齢者は、かえって生活が不便になる面も出てきた。

問9 AさんとCさんの出身都府県の地図を、次のア～オのうちからそれぞれ選べ。



(縮尺はすべて異なる。方位は必ずしも上が北とは限らない。一部の島は省略している。)

4 次のA・Bの史料、Cの文を読んで、あとの問いに答えよ。

A 第3条 下田・〔 a 〕のほか、神奈川・長崎・新潟・〔 b 〕を開港すること。
 …… 神奈川を開いた6か月後、下田をとざすこと。
 第6条 日本人に対して法を犯したアメリカ人は、アメリカ領事裁判所において取り調べのうえ、アメリカの法律によって罰すること。

問1 史料中の〔 a 〕・〔 b 〕に入る港名の組み合わせとして適当なものを、次のア～エのうちから一つ選べ。

- ア a 函館 b 博多 イ a 函館 b 兵庫 ウ a 浦賀 b 博多 エ a 浦賀 b 兵庫

問2 史料Aについて、この条約締結の直後に、同様の条約を結んだ国として**適当でないもの**を、次のア～エのうちから一つ選べ。

- ア イギリス イ フランス ウ ロシア エ ドイツ

問3 史料Aの調印から幕府が滅亡するまでの出来事ア～エを、起こった順に並べよ。

- ア 薩英戦争 イ 薩長同盟の成立 ウ 王政復古の発令 エ 桜田門外の変

B 第1条 大日本帝国ハ万世一系ノ天皇之ヲ統治ス
 第4条 天皇ハ統治権ヲ総攬シ此ノ憲法ノ条規ニ依リ之ヲ行フ
 第11条 天皇ハ陸海軍ヲ統帥ス
 第20条 日本〔 c 〕ハ法律ノ定ムル所ニ従ヒ兵役ノ義務ヲ有ス

問4 史料Bは大日本帝国憲法の一部である。この憲法が公布された西暦年月日を答えよ。

問5 史料B中の〔 c 〕に入る適当な語句を、漢字2字で答えよ。

問6 史料Bに関して、次に示した自由民権運動の開始から憲法の公布までの出来事ア～ウを、起こった順に並べよ。

- ア 北海道の開拓使にからむ事件が起こり、世論が反発した。伊藤博文らは背後にいると思われた大隈重信を政府から追い出し、「国会開設の勸諭」を出して世論を抑えようとした。
 イ 征韓論をめぐる政変の後、政府を去った板垣退助らは「民撰議院設立建白書」を政府に提出して大久保利通の政治を専制的だと非難し、議会の開設を主張した。
 ウ 伊藤博文は君主権の強いドイツやオーストリアなどで憲法について学んだ。帰国後、憲法制定の準備を進め、内閣制度ができること初代の内閣総理大臣に就任した。

問7 史料Bの憲法の内容について述べた文として**誤っているもの**を、次のア～エのうちから一つ選べ。

- ア 天皇は国の元首とされ、帝国議会の召集や陸海軍の指揮、条約の締結や戦争の開始・終了（講和）などが天皇の権限とされた。
 イ 内閣については、大臣は帝国議会ではなく内閣総理大臣に対して、個々に責任を負うとされた。
 ウ 帝国議会は、国民が選挙した議員から構成される衆議院と、皇族・華族、天皇が任命した議員などからなる貴族院の二院制であった。
 エ 国民には、帝国議会で定める法律の範囲内で、言論・出版・集会・結社の自由などの権利が認められた。

C 第一次世界大戦の終結後、日本国内で①急激な米価の上昇が起こった。1918年に富山県の漁村から始まった騒動は米騒動とよばれ、またたく間に全国に広がった。寺内正毅内閣は軍隊を出動させて鎮圧した。米騒動によって寺内内閣が退陣すると②原敬が内閣を組織した。1920年代に入ると、日本経済は不況に悩まされることとなった。1923年には関東大震災が起こって経済に大きな打撃をあたえ、その混乱がおさまらない1927年には〔 d 〕が起こり、多くの銀行が休業に追いこまれた。アメリカから始まった③世界恐慌は、1930年に入って日本にもおよび、深刻な不況をもたらした。長引く不況から抜け出す手段として、戦争に訴えようとする考えが強まっていった。

問8 下線部①について、その理由を次の語句を必ず使用して説明せよ。

米の買いしめ

問9 下線部②に関して、原敬やこの内閣について述べた文として適当なものを、次のア～オのうちから二つ選べ。

- ア 原敬は華族でなかったことから、「平民宰相」とよばれ国民から歓迎された。
 イ この内閣のもとで、いわゆる「普通選挙法」が議会を通過して成立した。
 ウ 陸軍・海軍・外務の3大臣以外は、すべて立憲政友会の党員で組織された。
 エ 第一次世界大戦が開始されると中国に二十一条の要求を示し、大部分を承認させた。
 オ アメリカの呼びかけで開かれたワシントン会議に参加し、日・英・米の同盟を結んだ。

問10 文中の〔 d 〕に入る適当な語句を、次のア～エのうちから一つ選べ。

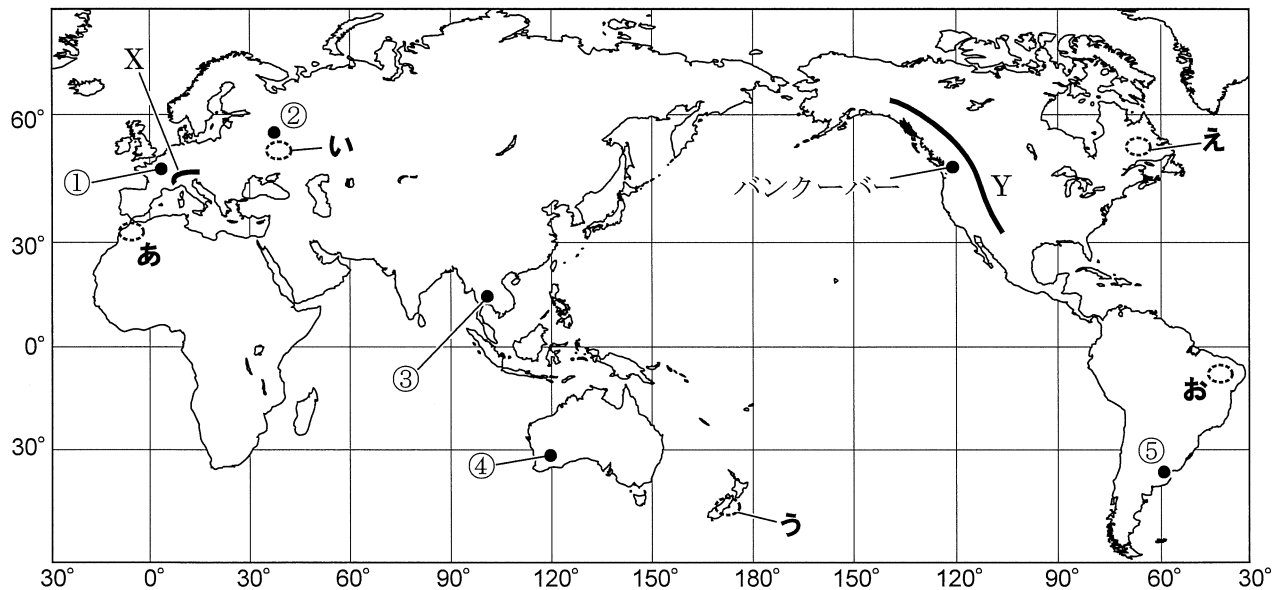
- ア 震災恐慌 イ 昭和恐慌 ウ 戦後恐慌 エ 金融恐慌

問11 下線部③について、恐慌から抜け出す手段として各国がとった対応として**誤っているもの**を、次のア～エのうちから一つ選べ。

- ア ドイツは経済的な混乱の中でナチスが勢力を大きく伸ばした。やがてヒトラーが首相となり、公共事業や軍需産業の育成に力を入れるようになった。
 イ イギリスはアジア・アフリカ各地に多くの植民地をもっており、世界中の国々との自由貿易をより拡大していくことで恐慌を乗り切ろうとした。
 ウ アメリカはローズベルト大統領のもと、農業や工業の生産を調整するとともに、積極的に公共事業をおこして失業者を救済するニューディール政策を採用した。
 エ フランスはフランス本国とアフリカなどに多かった植民地との間だけで経済を成り立たせる「ブロック経済」で乗り切ろうとした。

5 次の地図Ⅰ・Ⅱを見て、あとの問いに答えよ。

地図Ⅰ

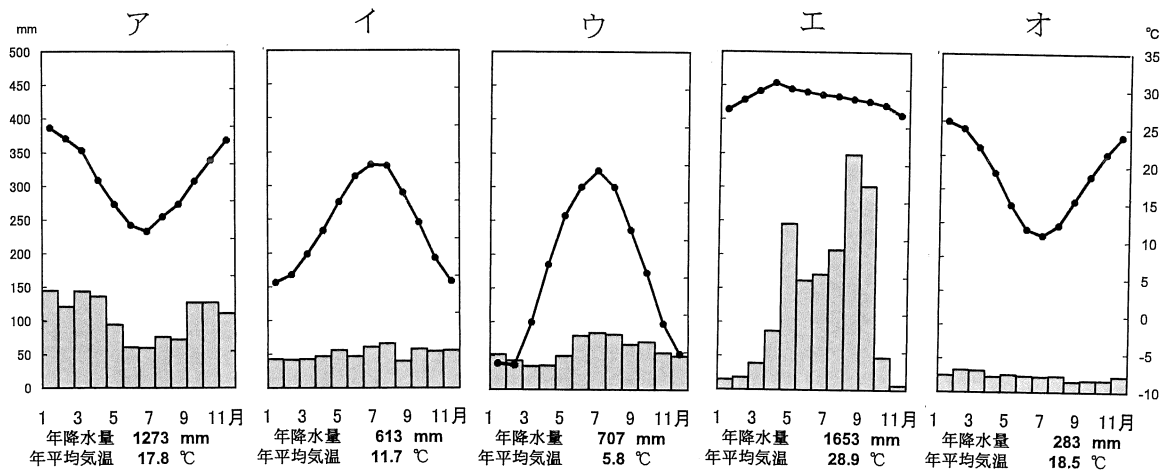


問1 地図Ⅰ中にあるバンクーバーの標準時は、西経120度を基準とするカナダの太平洋標準時が使用されている。バンクーバーでのアイスホッケーの試合が、日本時間の12月20日午前10時15分から始まったとすると、現地では何月何日の何時何分に始まったことになるか。午前、午後の区別をつけて答えよ。ただし、サマータイムは考慮しない。

問2 地図Ⅰ中のXとYの山脈名を答えよ。

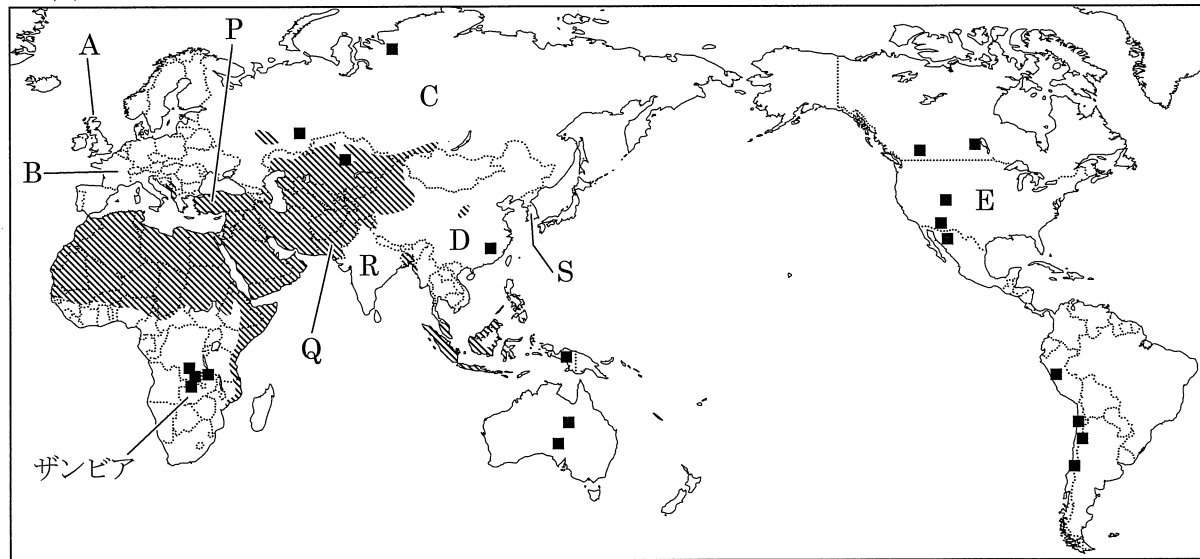
問3 地図Ⅰ中のあ～おのうち、地震が発生しやすい地域を示しているものを二つ選べ。

問4 次のア～オは、地図Ⅰ中の①～⑤のいずれかの都市の雨温図を示している。このうち、①と③にあてはまるものをそれぞれ選べ。



(『2019年版 理科年表』より作成)

地図Ⅱ



問5 地図Ⅱ中のA～Eの国々に関する次の(1)・(2)に答えよ。

(1) 次のア～オの文は、A～Eのいずれかの国の農業に関して述べたものである。ア～オのうちからA国とD国にあてはまるものをそれぞれ選べ。

ア 広大な盆地を中心に小麦や大麦、とうもろこしなどの栽培が行われ、とくに小麦の生産量と輸出量は世界有数である。南部ではオリーブの栽培も行われている。

イ 耕地では小麦が主に栽培されているが、国土に占める牧場・牧草地の比率が他の4か国と比べて高く、牧草や飼料作物を栽培して酪農や牧羊がさかんに行われている。

ウ 地域ごとに気候や土壌などの自然条件や、都市からの距離などの社会条件に合った農産物を生産している。企業的な牧畜が行われ、フィードロット方式の導入が進んでいる。

エ 小麦や大麦を中心とする穀物栽培と、てんさいやじゃがいもなどの栽培が中心となっている。国土に占める耕地や牧場・牧草地の比率は他の4か国と比べて低い。

オ 米、小麦、大豆、綿花など、生産量が世界有数の農産物が多い。冷涼な北部では畑作、温暖な南部では稲作が中心となっており、乾燥した西部では牧畜が行われている。

(2) 次の表は貿易に関する統計であり、表中のア～オはA～Eのいずれかの国を示している。ア～オのうちからC国とE国にあてはまるものをそれぞれ選べ。

	輸出額(億ドル)	輸入額(億ドル)	金額による輸入相手国上位3か国
ア	25,906	20,556	日本、韓国、表中のイ国
イ	14,341	23,343	表中のア国、メキシコ、カナダ
ウ	4,783	5,720	ドイツ、ベルギー、オランダ
エ	3,799	5,425	表中のア国、ドイツ、表中のイ国
オ	3,245	2,366	表中のア国、ドイツ、ベラルーシ

(統計年次は2020年、『2022 データブック オブ・ザ・ワールド』より作成)

問6 地図Ⅱ中の■は、ある地下資源の主要な産出地を示している。この資源に関する次の(1)～(3)に答えよ。

(1) この資源名を次のア～エのうちから一つ選べ。

ア 鉄鉱石 イ 金 ウ ダイヤモンド エ 銅

(2) 地図中に示されているアフリカのザンビアでは、この資源が輸出額の73.5% (2020年) を占める重要な輸出品となっている。アフリカの多くの国はこのような特定の地下資源や農産物の輸出に頼った経済構造となっている。この経済構造を何というか。

(3) この資源以外にも世界ではさまざまな資源が開発されている。豊富な資源の開発は国にたくさんの利益をもたらすが、近年、開発による問題も起こっている。どのように開発が行われ、どのような問題が発生しているか、次の二つの語句を必ず使用して簡潔に答えよ。

外国の企業 人々の生活

問7 次の表は地図Ⅱ中のP・Q・R・Sの4か国についてのものである。R国にあてはまるものをア～エのうちから一つ選べ。

	人口密度 (2020年、人/km ²)	0～14歳の人口 (2020年、%)	綿糸の生産 (2014年、千トン)	自動車の生産 (2020年、万台)
ア	420	26.2	3,853	339
イ	511	12.5	228	351
ウ	108	23.9	1,680	130
エ	277	34.8	3,156	12

(『2022 データブック オブ・ザ・ワールド』より作成)

問8 地図Ⅱ中の■で示されている地域は、ある宗教を信仰する人々が多数を占めている。この宗教について、次の(1)・(2)に答えよ。

(1) この宗教を何というか答えよ。

(2) この宗教について述べている文として正しいものを、次のア～エのうちから一つ選べ。

ア 西暦とは異なる暦(太陰暦)における9月であるラマダン(断食月)には、昼も夜も飲食をしない。
イ 酒を飲むことは禁じられている。また、教えに従って処理・加工されたものであっても、牛肉を食べることはできない。

ウ アラビア語で書かれた『コーラン(クルアーン)』に基づく生活を送り、金曜日にはモスク(礼拝堂)で多くの人が礼拝をする。

エ 人は生まれながらに特定の身分に属していると考えるカースト制とよばれる身分制度があり、身分によって職業や結婚相手が限定されていた。