

# 中学校 社会問題

1 次の文は小学6年生のてつやさんとなおみさんの間の、学校の社会科の授業で学んだ政治の単元についての会話の一部である。これを読んで、あとの問いに答えなさい。

てつやさん： みんなが幸せな生活をおくることができるようにさまざまな願いをもちながら毎日の生活をいとなんでいるけど、その願いを実現することができるのが政治なんだとはじめに習ったよね。

なおみさん： ①わたしたちが住んでいる市にも図書館や運動公園などがあってとても便利だし、放課後も学童クラブで勉強したり遊んだりできるから、お母さんもわたしも助かっているよ。これは政治のはたらきなんだと思う。

てつやさん： でも、図書館や公園を作ったりするのもけっこうお金がかかっているはずだよ。②市が使っているお金はどこから来たんだろう。  
それに、私たちが住んでいる市だけではなくて、国も政治を行っているよね。国の政治には「③三権分立」という考えがとりいれられているね。どういう考えだったっけ。

なおみさん： 「三権分立」の考えや④三権のはたらきについては、⑤日本国憲法に表されているのよ。憲法は国のきまりや政治のしくみを定めたもので、今の日本は⑥日本国憲法の三大原則をもとに形づくられてきたんだよ。

てつやさん： 政治や日本国憲法についてもっとくわしく勉強してみたいな。中学生になると、社会科で「公民」を学習すると聞いたことがあるから楽しみだなあ。

問1 下線部①について、市の政治のしくみについて述べた文として正しいものを、次のア～エのうちから一つ選びなさい。

- ア 市長は、市議会の議員のなかから選挙で選ばれる。
- イ 市長は、市の一年間の収入と支出の金額（予算）をきめることができる。
- ウ 市議会は、衆議院と参議院の二つの議院からなる。
- エ 市議会は、条例を制定したり廃止したりすることができる。

問2 下線部②について、市が使うお金がどこから来たのかを示しているものの組み合わせとして正しいものを、次のア～エのうちから一つ選びなさい。

- ア 市民がおさめる年金保険料、国からの補助金
- イ 市民がおさめる税金、救急車の利用者が払う料金
- ウ 市民がおさめる税金、国からの補助金
- エ 市民がおさめる年金保険料、救急車の利用者が払う料金

問3 下線部③について、「三権分立」とは、国のもつ立法権、行政権、司法権の3つの権力を、国会、内閣、裁判所のそれぞれの機関にもたせて担当させることですが、国のもつ権力を別々の機関に分けて担当させる理由を述べなさい。

問4 下線部④の三権のはたらきについて、次の(1)・(2)の問いに答えなさい。

(1) 内閣について述べた次の文の  ・  に入る語句を、それぞれ漢字四文字で答えなさい。

内閣は、国会で選ばれた内閣総理大臣がその中心になります。内閣総理大臣は首相ともよばれ、それぞれ専門的な仕事を担当する  を任命し、会議を開いて政治の進め方を相談します。内閣の下で実際の仕事を受けるのは省や庁です。それらの省や庁のうち、教育や科学・文化・スポーツなどに関する仕事を受けるのは  省です。

(2) 裁判は原則3回まで受けることができ、判決になつとくできない場合は上級の裁判所にうったえることができます。地方裁判所の判決になつとくできない場合は、何という裁判所にうったえますか。解答らんにあうように答えなさい。

問5 下線部⑤について、日本国憲法が公布された年月日と、施行された年月日をそれぞれ答えなさい。ただし、年は西暦でも年号をもちいた表し方でもかまいません。

問6 下線部⑥の日本国憲法の三大原則について、次の(1)・(2)の問いに答えなさい。

(1) 大日本帝国憲法では天皇に主権がありましたが、日本国憲法で国民に主権があると決められました。現在の天皇の地位や仕事のうち、天皇が内閣の決めたことにもとづいて行う、憲法でさだめられた仕事を漢字四文字で答えなさい。

(2) 日本国憲法では、日本は戦力を持たないことが決められていますが、多くのアメリカ軍が日本にいて、各地にアメリカ軍基地がつくられています。日本全国のアメリカ軍基地の面積の約7割が集中している都道府県名を答えなさい。

2 日本と外国との関係についてまとめた次の表を見て、あとの問いに答えなさい。

時代	出来事	影響
古墳	大陸から多くの①渡来人が移り住んだ。	大陸の進んだ技術が伝えられた。
飛鳥～平安	②遣隋使や③遣唐使が派遣された。	④中国の政治制度が取り入れられた。
鎌倉	⑤元の大軍が北部九州に襲来した。	⑥幕府と武士の関係が崩れていった。
室町	⑦中国との貿易がさかんに行われた。	中国から( ⑧ )が伝わった。
戦国	⑨南蛮人の貿易船がやってきた。	⑩ヨーロッパの文化がもたらされた。
江戸	⑪幕府が海外との交流を制限した。	海外の情報や貿易を幕府が独占した。
明治	⑫積極的に欧米の文化が導入された。	⑬伝統的な人々の生活が変化した。
	⑭日清・日露戦争で勝利した。	⑮欧米諸国と対等な関係をきずいた。
昭和	⑯ポツダム宣言を受け入れた。	連合国軍によって⑰改革が進められた。
	ソ連との国交を正常化した。	( ⑱ )

問1 下線部①について、この時期の渡来人の役割や渡来人が伝えた知識・技術について述べた文として誤っているものを、次のア～エのうちから一つ選びなさい。

- ア 聖徳太子の定めた十七条の憲法には、渡来人が伝えた仏教の影響が見受けられる。
- イ 渡来人によって米作りの技術や石包丁などの農具が伝えられ、農業が本格的に始まった。
- ウ 渡来人の伝えた金属加工技術によって生産された銅鏡や鉄剣が、古墳から発見された。
- エ 渡来人は、漢字を用いて朝廷の記録や外国への手紙を書く役割をになった。

問2 下線部②について、まとめ学習で「遣隋使」の新聞を作ることにしました。この記事の内容に関して述べた文X・Yについて、「遣隋使」の新聞に「ふさわしい」か「ふさわしくない」かを判断し、その組み合わせを、下のア～エのうちから一つ選びなさい。

- X 記事の中心を、隋へ国書を届けた阿倍仲麻呂へのインタビュー記事にした。
- Y 新聞の見出しを、「隋の皇帝激怒！日本、強気な姿勢の背景には？」とした。

- ア X…ふさわしい Y…ふさわしい
- イ X…ふさわしい Y…ふさわしくない
- ウ X…ふさわしくない Y…ふさわしい
- エ X…ふさわしくない Y…ふさわしくない

問3 下線部③について述べた文として正しいものを、次のア～エのうちから一つ選びなさい。

- ア 鑑真は、正しい仏教の教えを学ぶため、遣唐使に留学生として参加した。
- イ 遣唐使によってもたらされた文物の一部は、東大寺の正倉院に納められている。
- ウ 遣唐使の航海は安全であったため、奈良時代の朝廷は毎年遣唐使を送った。
- エ 唐の皇帝は、聖武天皇から遣唐使がおくられてくると、天皇に倭王の称号をあたえた。

問4 下線部④について、唐にならった政治制度の一つとして農民の税負担があります。都で年間10日労働する代わりに、布を納める負担を何というか答えなさい。

問5 下線部⑤について述べた文として正しいものを、次のア～エのうちから一つ選びなさい。

- ア 元を建国したモンゴル人は、ユーラシア大陸からアフリカ大陸に及ぶ大帝国を築いた。
- イ 執権北条政子は、元の襲来で動揺する御家人たちを団結させ、元の攻撃を迎え撃った。
- ウ 幕府は、一度目の元軍の襲来に備え、博多湾沿岸に防塁(石塁)を築いて守りを固めた。
- エ 竹崎季長が描かせた絵巻物より、元軍が火薬兵器を用いたことが読み取れる。

問6 下線部⑥について、その理由を「ご恩」と「奉公」の二語を用いて説明しなさい。

問7 下線部⑦について、明との勘合貿易をはじめた人物について説明をする際に使用する写真として適切なものを、次のア～エのうちから一つ選びなさい。

ア



イ



ウ



エ



問8 ( ⑧ ) にあてはまる語句を左のア～エのうちから、( ⑧ ) にあてはまる語句と関連する人物を右のカ～ケのうちからそれぞれ一つずつ選びなさい。

- ア 水墨画
- イ 能
- ウ 浮世絵
- エ 人形浄瑠璃

- カ 近松門左衛門
- キ 世阿弥
- ク 歌川広重
- ケ 雪舟

問9 下線部⑨について、南蛮人が伝えた鉄砲は当時の戦いのあり方を大きく変えました。堺を支配して大量の鉄砲を確保し、長篠の戦いで効果的に使用した戦国大名を答えなさい。

問10 下線部⑩について述べたa～dの文に関して、正しいものの組合せを、下のア～エのうちから一つ選びなさい。


- a 一部の戦国大名がキリスト教を保護し、京都などに教会堂(南蛮寺)が建てられた。
- b キリスト教が拡大すると、キリスト教の信者が団結して一向一揆を組織した。
- c 輸入した品物に対して、石見などで大量に産出された銀が支払われた。
- d ヨーロッパから焼き物の生産技術がもたらされ、日本で有田焼などの生産が始まった。

- ア a・c
- イ a・d
- ウ b・c
- エ b・d


問 11 下線部⑪について、次の(1)・(2)の問いに答えなさい。

- (1) このような幕府の政策は、後に何とよばれるようになったか、漢字二文字で答えなさい。
- (2) この時代においても、海外との交流は閉ざされていませんでした。そのような状況を説明する際に用いる資料として適切なものを、次のア～エのうちから一つ選びなさい。


ア




イ



ウ



エ



問 12 下線部⑫について述べた文として**誤っているもの**を、次のア～エのうちから一つ選びなさい。

- ア 東京の銀座のれんが街には、ガス灯が作られ、洋服を着た人々や人力車が見られた。
- イ 暦では、太陽暦が取り入れられ、日曜日が休日とされるようになった。
- ウ 福沢諭吉は、西洋の思想を紹介し、『学問のすゝめ』で学問の重要性を説いた。
- エ アメリカから帰国した津田梅子は、「女性は太陽であった」と女性の地位向上をとなえた。

問 13 下線部⑬について、西洋文明による生活の変化を何といいますか、漢字四文字で答えなさい。

問 14 下線部⑭について、これらの戦争の前後におこった次のア～エの出来事を、おこった順に正しく並び変えなさい。

- ア 与謝野晶子が、「君死にたまふことなかれ」を発表して、戦争に反対する気持ちを示した。
- イ 朝鮮(韓国)を勢力下に置くことが条約で認められた日本は、朝鮮(韓国)を併合した。
- ウ 日本は、樺太の南部や満州の鉄道を獲得したが、賠償金は獲得できなかった。
- エ 日本は多額の賠償金を獲得し、台湾などを日本の植民地にした。

問 15 下線部⑮に関して、不平等条約改正について述べた次の文について、( Ⓐ ) ~ ( Ⓒ ) にあてはまる語句の組み合わせとして正しいものを、下のア～カのうちから一つ選びなさい。

明治政府は、江戸時代に結ばれた不平等条約を改正するために、早くから外国と交渉を重ねていった。日清戦争直前には、外務大臣の陸奥宗光がイギリスとの交渉に成功し、( Ⓐ ) の法律で外国人の裁判ができるようになった。さらに日露戦争後には、外務大臣の小村寿太郎がアメリカとの交渉に成功し、日本が( Ⓑ )に( Ⓒ )関税をかける権利が確立された。

- |   |      |       |           |
|---|------|-------|-----------|
| ア | Ⓐ 外国 | Ⓑ 輸出品 | Ⓒ 外国と交渉して |
| イ | Ⓐ 外国 | Ⓑ 輸入品 | Ⓒ 外国と交渉して |
| ウ | Ⓐ 外国 | Ⓑ 輸出品 | Ⓒ 自由に     |
| エ | Ⓐ 日本 | Ⓑ 輸入品 | Ⓒ 外国と交渉して |
| オ | Ⓐ 日本 | Ⓑ 輸出品 | Ⓒ 自由に     |
| カ | Ⓐ 日本 | Ⓑ 輸入品 | Ⓒ 自由に     |

問 16 下線部⑯について、ポツダム宣言の受け入れを決定づけた 1945 年 8 月の出来事を、次のア～エのうちから**二つ**選びなさい。

- |   |        |   |             |
|---|--------|---|-------------|
| ア | 沖縄戦の開始 | イ | ソビエト連邦の参戦   |
| ウ | 東京大空襲  | エ | 広島・長崎への原爆投下 |

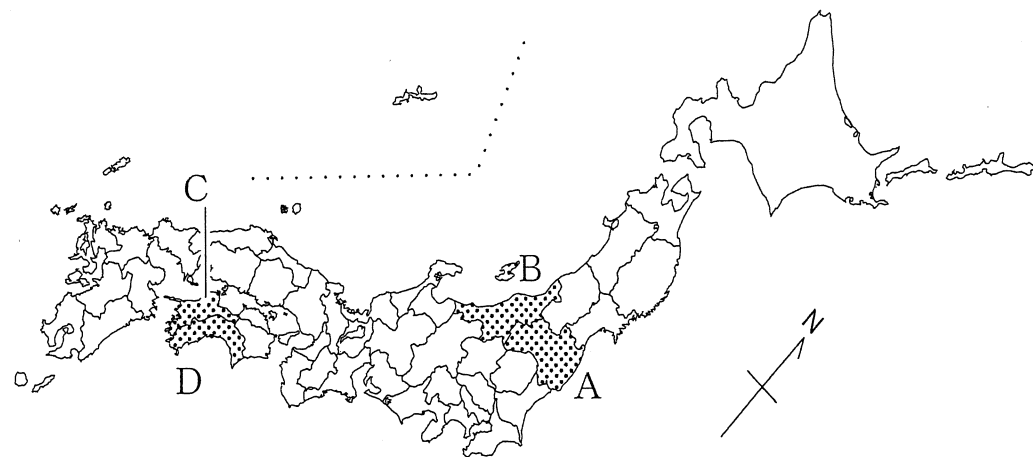
問 17 下線部⑰について述べた文として**誤っているもの**を、次のア～エのうちから一つ選びなさい。

- ア 軍隊が解散させられ、日本国憲法では平和主義の原則が定められた。
- イ 女性の選挙権が保障され、日本国憲法では男女平等の原則が示された。
- ウ 農地改革がおこなわれ、多くの小作農民は自分の土地を持てるようになった。
- エ 日本国憲法に基づいて国会が置かれ、日本で初めての政党が結成された。

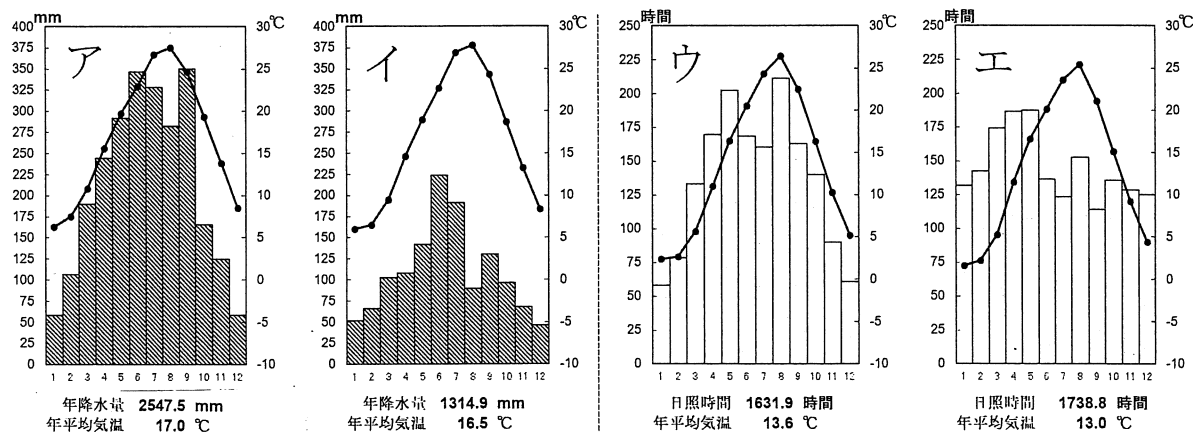
問 18 ( Ⓓ ) には、ソ連との国交を正常化した 1956 年の出来事があてはまる。( Ⓓ ) にあてはまる文として正しいものを、次のア～エのうちから一つ選びなさい。

- |   |                    |   |                |
|---|--------------------|---|----------------|
| ア | 東京でオリンピックが開催された。   | イ | 日本が独立を回復した。    |
| ウ | 日本は国際連合への加盟が認められた。 | エ | 北方領土が日本へ返還された。 |

3 日本のうち、それぞれ山脈などを県境としてとなりあうA県とB県、およびC県とD県についてあとの問いに答えなさい。



問1 次のグラフはA~Dいずれかの県庁所在地の1~12月の気候を示したものです。ア・イは気温と降水量、ウ・エは気温と日照時間を示しており、アとイ、ウとエはそれぞれとなりあう県のもので、Bの県庁所在地にあてはまるグラフを、ア~エのうちから一つ選びなさい。



(気象庁ウェブサイトの平年値より作成)

問2 次の表①~④は、あとのア~エのいずれかの農産物について、生産量上位5位の道県と、全国に占める割合を示したもので、各表の(?)県には、A~Dのいずれかの県が、それぞれ一つずつあてはまります。これについてあとの(1)~(3)に答えなさい。

①	②	③	④
(?)県 8.1%	(?)県 13.5%	山梨県 31.4%	和歌山県 19.5%
北海道 6.6%	熊本県 10.2%	(?)県 22.9%	(?)県 16.2%
秋田県 6.3%	群馬県 8.0%	長野県 11.6%	熊本県 11.6%
山形県 4.8%	福岡県 6.9%	和歌山県 8.2%	静岡県 11.0%
宮城県 4.8%	茨城県 5.8%	山形県 6.9%	長崎県 7.1%

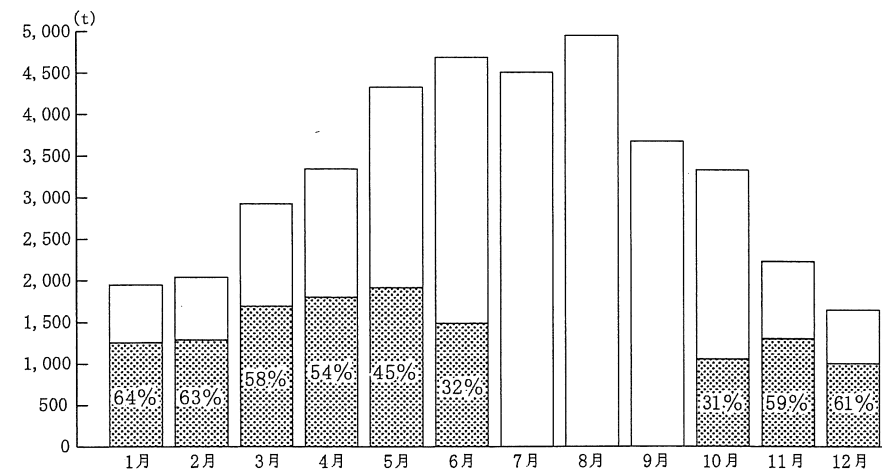
(統計年次は2016年または2017年。『日本国勢図会 2019/20』より作成)

ア 米                      イ なす                      ウ みかん                      エ もも

(1) 表②にあてはまる農産物を、上のア~エのうちから一つ選びなさい。

(2) 次のグラフ1は、表①~④の農産物のうちD県の特産物について、2013年~2017年の5年間に東京卸売市場に出荷された量とD県のしめる割合を、月別に示したものです。なぜこのような出荷時期や割合になるのか、あとの文中の〔あ〕・〔い〕に適当な語句または短い文を入れて、説明文を完成させなさい。

グラフ1


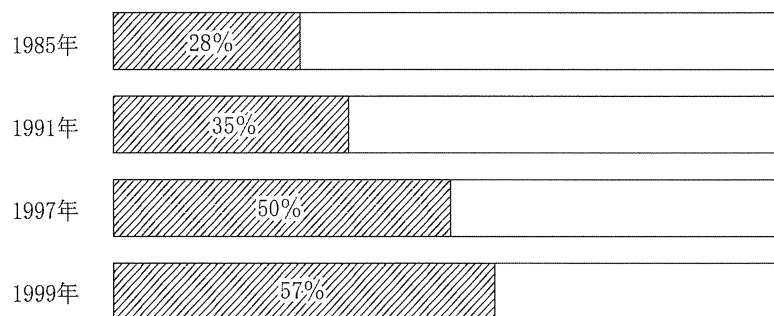


(農畜産業振興機構の資料および東京都中央卸売市場年報より作成)

D県では気候の特長を活かして〔あ〕が行われている。これは、他の産地での生産が少ない時期に東京に出荷することで〔い〕からである。

(3) 次のグラフ2は、(2)と同じ農産物について、10～6月の期間に全国から東京卸売市場へ出荷される量に占めるD県の割合を、4つの年について示したものです。このグラフについて述べた文中の〔う〕・〔え〕にあてはまる適当な語句を、下の地図も参考にして答えなさい。

グラフ2



1985年

1997年

1999年

3枚の地図はそれぞれの年に開通していた主要な〔う〕を示している。D県から東京へ荷物を運ぶには、1985年には途中で〔え〕に乗せる必要があったが、1999年までに四国と本州の間を〔え〕を使わずに運べるようになり、天候に左右されずに大都市圏へ農産物を出荷しやすくなったことで、D県の割合が増加したと考えられる。

(国土交通省ウェブサイトの資料より作成)

問3 次の文は、A～Dの各県の工業について説明したものです。またあとの表は各県の製造業の出荷額を示しており、表のア～エには、A～Dのいずれかの県があてはまります。C県にあてはまるものを下のア～エのうちから一つ選びなさい。

- A県 首都圏とつながる交通路の整備が進み、30年ほど前から小型・軽量でも高価格な先端産業や、関東を中心に生産していた自動車会社の工場が進出し、製造業の出荷額は東北一である。
- B県 日本海の対岸にある国から輸入した木材やチップを原料とした工業や、スプーンやフォークなどの食器の地場産業のほか、やはり首都圏とつながる交通路に沿って先端産業の進出が見られる。
- C県 瀬戸内海沿岸に工場が集中し、中でも四国山地で原料が採れる伝統工芸から発展した工業が輸入原料を大量に利用して行われている。また造船業やタオルで全国的に有名な町もある。
- D県 大都市圏から遠く、人口も少ないため、工業が伸び悩んでおり、日本の都道府県の中では工業の生産額が2番目に小さい県である。

	金属製品	電子部品	繊維製品	パルプ・紙製品	輸送用機械
ア	5069億円	3328億円	764億円	2218億円	2139億円
イ	2589億円	4375億円	484億円	1864億円	5136億円
ウ	715億円	422億円	2028億円	5753億円	3812億円
エ	195億円	236億円	155億円	625億円	417億円

(統計年次は2016年。『日本国勢図会 2019/20』より作成)

問4 次の文中の〔あ〕～〔う〕にあてはまる適当な語句を答えなさい。

- A県は、2011年3月に発生した災害で大きな被害を受けた。現在でも県内で約1万人、県外で約3万人が避難生活を送っている。またA県にあった〔あ〕発電による発電所の事故の処理は現在も続けられており、その影響で故郷に帰れないままの住民も多い。
- 同様の災害は今後日本の別の地方でも発生すると考えられ、例えば日本の沖合の海底にある南海トラフと呼ばれる場所で巨大〔い〕が発生すると、さらにそれが大きな〔う〕を引き起こし、C県やD県の沿岸では大きな被害が出ると予測されている。

4 最近の世界情勢について書かれたⅠ～Ⅲの文を読み、各問いに答えなさい。

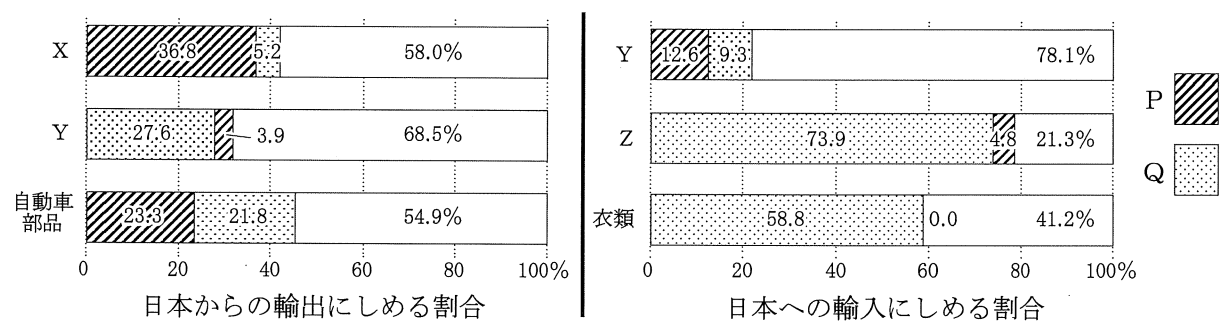
Ⅰ アメリカと中国の間で、おたがいに相手の国からの輸入品にかかる関税を引き上げる「貿易戦争」が続いている。2019年6月に大阪で開かれたG20サミットでは、世界で「自由貿易」を進めていく方針が示され一方で、アメリカはその反対である「( ① )貿易」主義に向かっていると批判された。アメリカと中国は日本の重要な貿易相手国でもあり、この2つの国で発生した貿易や経済の問題は②日本の経済にも大きな影響をあたえたと考えられる。

その中国は2019年が建国70周年にあたり、祝賀行事が開かれた一方、現在中国政府当局から独立した政治を行っている大都市の( ③ )では、自由が制限されつつあると感じている市民が民主化を求めて大規模なデモが続いた。

問1 ( ① )にあてはまるものを、次のア～エのうちから一つ選びなさい。

- ア 保護      イ 加工      ウ 制限      エ 自国中心

問2 下線部②について、次のグラフは、いくつかの工業製品について、日本の輸出入額にしめるアメリカ・中国の割合を示したもので、P・Qのいずれかがアメリカ、中国にあてはまります。また、X～Zにはあとのア～ウのいずれかの製品があてはまります。アメリカにあてはまる方をP・Qより一つ選びなさい。また、Yにあてはまる製品をア～ウのうちから一つ選びなさい。



(統計年次は2018年。『日本国勢図会 2019/20』より作成)

- ア コンピュータ(完成品)      イ IC(電子集積回路)      ウ 自動車

問3 ( ③ )にあてはまる都市の名前を漢字二文字またはカタカナで答えなさい。

Ⅱ 2019年のラグビーのワールドカップは初めて日本でわれ、日本代表はロシア、[ あ ]、サモア、スコットランドに勝ち、準々決勝で④南アフリカに敗退したものの、大活躍を見せて、多くの人にラグビーの魅力伝えた。

[ あ ]のラグビー代表は、独立国である[ あ ]と、同じ島にある[ い ]領の北[ あ ]との合同チームである。ともに( ⑤ )の加盟国でもある[ あ ]と[ い ]では現在、国境をこえて自由に行き来ができる。

しかし、[ い ]は2016年の国民投票によって( ⑤ )からの離脱を決定した。離脱の条件をめぐる交渉が長引いているが、実際に離脱が行われた場合、( ⑤ )に加盟したままの[ あ ]との国境をどう管理していくのが問題となっている。

スコットランドは、ウェールズ、北[ あ ]などとともに連邦国家である[ い ]を構成する国の一つである。[ い ]の( ⑤ )離脱が正式に決定したあとで、離脱反対派の多いスコットランドでは、[ い ]から独立する運動が起きる可能性がある。

問4 下線部④の南アフリカに関して述べた文として誤っているものを、次のア～エのうちから一つ選びなさい。

- ア 南アフリカが1月7日午前0時をむかえるのは日本より遅く、イギリスより早い。
イ 南アフリカでは、クリスマスや新年のお祝いの行事が行われる季節は夏である。
ウ 南アフリカのラグビー代表チームは、白人、黒人などの人種に関わりなく選手が参加した。
エ 南アフリカでは、青年海外協力隊などのNGOで派遣された日本人が活動している。

問5 [ あ ]・[ い ]にあてはまる国・地域名を答えなさい。

問6 ( ⑤ )の組織の日本語での名称を、漢字、またはカタカナまじりの漢字で答えなさい。

Ⅲ [ う ]は1987年に当時のソ連とINF(中距離核戦力)全廃条約を結んだ。その数年後に東西( ⑥ )が終結したことや、その後の核軍縮にこの条約が果たした役割は大きい。[ う ]は現在の[ え ]の軍備が条約に違反しているとして離脱を宣言、[ え ]も条約を守るのをやめるとしたため、2019年8月に条約は失効した。今後世界の核軍縮は停滞すると心配されている。

問7 [ う ]・[ え ]には、文Ⅰ・Ⅱ中に登場した国のいずれかがあてはまる。[ え ]にあてはまる国名を文中から抜き出して答えなさい。

問8 ( ⑥ )にあてはまる語句を漢字二文字で答えなさい。