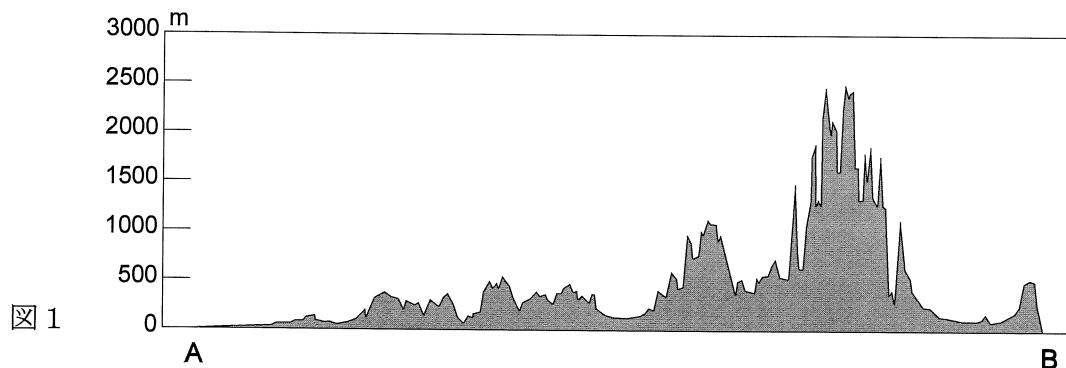


令和2年度 弘学館入学試験
高等学校 社会問題

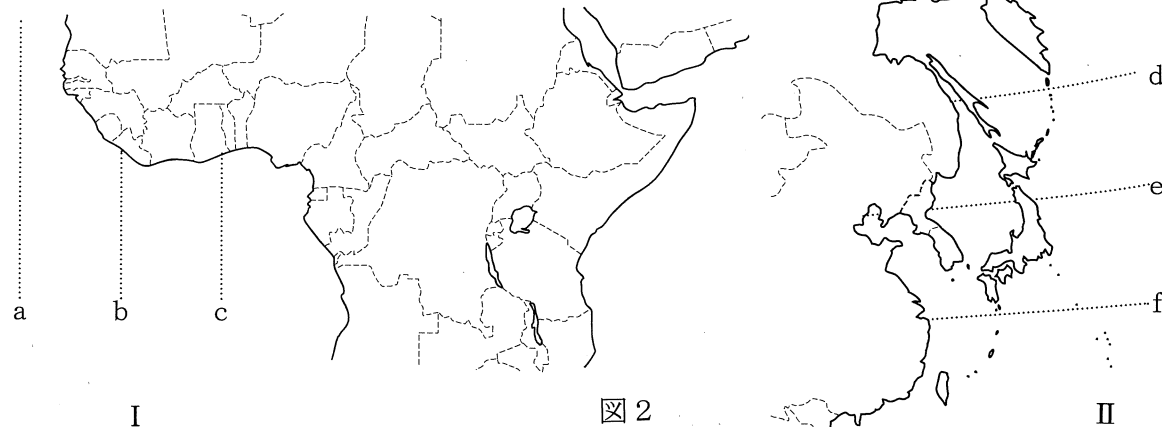
1 次の地図を見て、あとの問いに答えよ。



問1 次の図1は、地図中のア～エのいずれかの断面を模式的に表したものである。適するものをア～エのうちから一つ選べ。



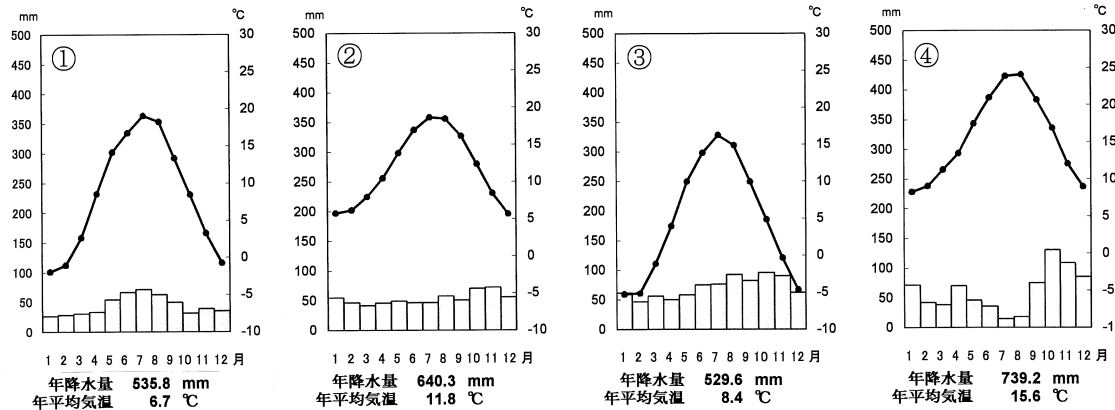
(高等学校社会 6枚中の1)
 問2 次の図2のIとIIには、地図中の経線Xおよび緯線Yと同じ線がある。その線の組み合わせとして適当なものを、あとのア～ケのうちから一つ選べ。



- ア aとd イ aとe ウ aとf エ bとd オ bとe
 カ bとf キ cとd ク cとe ケ cとf

問3 地図中の緯線Zより高緯度側では白夜がみられる。この現象は夏と冬のどちらの季節においてみられるか答えよ。また、どのような現象であるか簡単に説明せよ。

問4 次の雨温図①～④は、地図中のあ～えのいずれかの都市のものである。①と③にあてはまるものを、あ～えのうちから一つずつ選べ。



(『理科年表2019』、『2019 データ・ブック・オブ・ザ・ワールド』より作成)

問5 次の表は、イギリス・オランダ・フランス・イタリアおよび日本の食料自給率(%)を示したものである。オランダと日本にあてはまるものを、表中のア～オのうちから一つずつ選べ。

	穀類	いも類	野菜類	果実類	肉類	牛乳・乳製品
ア	189	116	73	57	98	123
イ	16	221	284	22	176	224
ウ	28	74	80	41	53	62
エ	86	75	38	5	69	81
オ	69	45	141	106	79	68

(日本のみ2016年、他は2013年。『2019 データブック・オブ・ザ・ワールド』より作成)

問6 次の表は、イギリス・ドイツ・フランス・イタリア・ノルウェーの輸出品上位5品目および輸出相手国上位5か国を示したものである。ドイツとノルウェーにあてはまるものを、表中のA～オのうちから一つずつ選べ。

	第1位	第2位	第3位	第4位	第5位
A	機械類	自動車	医薬品	衣類	金属製品
	イ国	ウ国	アメリカ合衆国	スペイン	エ国
イ	機械類	自動車	医薬品	精密機械	金属製品
	アメリカ合衆国	ウ国	中国	エ国	オランダ
ウ	機械類	航空機	自動車	医薬品	香水・芳香剤原料
	イ国	スペイン	ア国	アメリカ合衆国	ベルギー
エ	機械類	自動車	医薬品	航空機・部品	原油
	アメリカ合衆国	イ国	ウ国	オランダ	アイルランド
オ	原油	天然ガス	魚介類	機械類	石油製品
	エ国	イ国	オランダ	スウェーデン	ウ国

(2017年。上段は輸出品、下段は輸出相手国。『地理データファイル2019年度版』より作成)

問7 20世紀に二度の世界大戦の戦場となったヨーロッパでは、大戦後、同じヨーロッパの国どうしで争うことをやめ、たがいに協力して発展していこうという動きが高まった。この動きに関する次の文を読み、あとの問いに答えよ。

1967年に、①フランス、イタリアなどの6か国がヨーロッパ共同体（EC）という組織をつくり、1993年にはヨーロッパ連合（EU）となった。1990年代から2000年代にかけては、②西ヨーロッパだけでなく、北ヨーロッパや東ヨーロッパへも加盟国が拡大した。EUによる統合は、世界の中でのヨーロッパの影響力を強めるだけでなく、EU域内に暮らす人々の生活にも大きな変化をもたらした。多くのEU加盟国間で国境の行き来が自由になり、人・ものの移動が活発になった。また、共通の通貨である〔 a 〕が多くの国で導入された。一方で、増える外国人労働者や、バルカン半島や北アフリカ、そして中東などの紛争地域からのがれてくる〔 b 〕の流入が社会問題になっている。

- (1) 下線部①について、この6か国のうちの1か国で、国内にライン川の河口があり、英語では the Netherlands と表記される国の日本語名を答えよ。
- (2) 文章中の下線部②について、加盟国の拡大にともなう変化について述べた文として適当なものを、次のA～エのうちから一つ選べ。
- A かつて社会主義体制をとっていた国も加盟国となった。
 イ 西ヨーロッパから東ヨーロッパに企業が進出し、加盟国内の経済的格差が縮まった。
 ウ 面積や人口規模の合計で、アメリカ合衆国を上回る存在となった。
 エ イスラム教徒が多数をしめる国も加盟国となった。
- (3) 〔 a 〕・〔 b 〕に入る適当な語句を答えよ。ただし、〔 a 〕はカタカナで答えよ。
- (4) イギリスは、2016年の国民投票でEUからの離脱を支持する人が過半数に達したが、国内には残留を支持する人の方が多かった地域もある。地図中のPに示された地域はそのうちの一つである。地域名を答えよ。

2 日本と朝鮮半島に関するA～Cの各文を読んで、あとの問いに答えよ。

- A 古代の朝鮮半島では、〔 a 〕が唐と結んで〔 b 〕を滅ぼした。663年、日本は〔 b 〕を助けるために大軍を送ったが、〔 a 〕と唐の連合軍に敗北した。中大兄皇子は西日本各地に山城を築いたり、九州北部に水城を築いたりして〔 a 〕や唐からの攻撃に備えるとともに、戸籍を作成して民衆を兵役に就かせる仕組みを整えようとした。〔 c 〕年に大宝律令が完成すると、①税制とともに兵役の仕組みが整った。兵士となった者の中には、都に上って朝廷を守る任務につく者や九州北部の防衛に送られる者もいた。
- B 〔 d 〕年、李成桂が（ 1 ）を倒し、国名を朝鮮と改めた。ハングルという文字が作られ、金属活字を用いた印刷が行われた。日本に対して②倭寇の取り締りを強く求め、日本側がそれに応じると③貿易が開始された。朝鮮が貿易相手を幕府に限定しなかったため、守護大名や博多商人などが貿易に参加した。やがて貿易は（ 2 ）の宗氏を通じて行われるようになり、宗氏が貿易を独占するようになった。
- C ④豊臣秀吉の命で二度に渡って実施された朝鮮出兵により、朝鮮では多くの人々が殺害されたり、日本に連行されたりした。その結果、日本と朝鮮との国交は断絶したが、1609年、（ 2 ）藩の努力で両国間の国交が回復した。將軍の代替わりごとなどに、⑤祝賀の使節が日本に派遣される慣例になった。この使節は⑥17世紀前半から19世紀の初めまで派遣された。江戸時代には、（ 2 ）以外にも⑦3つの窓口が開かれ、外国との交易が行われた。

問1 〔 a 〕・〔 b 〕に入る国名の組み合わせとして適当なものを、次のA～カのうちから一つ選べ。

- A a-百済 b-新羅 イ a-高句麗 b-新羅 ウ a-新羅 b-百済
 エ a-新羅 b-高句麗 オ a-高句麗 b-百済 カ a-百済 b-高句麗

問2 〔 c 〕・〔 d 〕に入る西暦年の組み合わせとして適当なものを、次のA～エのうちから一つ選べ。

- A c-710 d-1368 イ c-710 d-1392
 ウ c-701 d-1368 エ c-701 d-1392

問3 下線部①について、律令制のもとでの税制に関して述べた文として誤っているものを、次のA～エのうちから一つ選べ。

- A 戸籍に登録された6歳以上の男女に良民・賤民の身分に応じて口分田があたえられた。
 イ 人々は口分田の面積に応じて、収穫高の約3%を米で納める租を負担した。
 ウ 成人男女にかかる調や庸は自分たちで都まで運ばなければならず、重い負担となった。
 エ 春に農民に種もみを貸し付け、秋に高い利息を取る出挙という制度があった。

問4 下線部②について、倭寇に関して述べた文として**誤っているもの**を、次のア～エのうちから一つ選べ。

- ア 倭寇は松浦地方（長崎県・佐賀県）や九州北部の島々を根拠地にする人々が多かった。
- イ 鎌倉幕府が減んで、南北朝の動乱へと突入すると倭寇の活動が活発化した。
- ウ 倭寇には、その後、朝鮮人や中国人など日本人以外の人々も多く加わっていった。
- エ 日明間で対等な関係の貿易が始まったが、倭寇と区別するために勘合が使用された。

問5 下線部③について、日本が朝鮮から輸入したものを、次のア～カのうちから二つ選べ。

- ア 陶磁器 イ 銅 ウ 綿織物 エ 刀剣 オ 硫黄 カ 漆器

問6 下線部④の豊臣秀吉の政策について述べた文として**適当なもの**を、次のア～エのうちから一つ選べ。

- ア 刀狩令を發布して農民や寺社から鉄砲以外のすべての武器を取り上げた。
- イ 太閤検地を行って収穫量を銭で表示する石高制を採用し、全国を統一基準で表示した。
- ウ 朝廷から関白に任じられ、朝廷の権威を利用する形で諸大名の争いに介入した。
- エ バテレン追放令を出して宣教師を追放するとともに貿易を禁止し、キリスト教の拡大を防いだ。

問7 下線部⑤について、この祝賀使節を何というか。また、この使節について述べた文として**誤っているもの**を、次のア～エのうちから一つ選べ。

- ア この使節は400～500名からなり、江戸時代に10回以上派遣されてきた。
- イ この使節は朝鮮を出発して瀬戸内海を通り、天皇に謁見することを目的として派遣された。
- ウ この使節の中にはすぐれた学者もおり、日本の学者との交流も行われた。
- エ この使節の行列をもとにした踊りや人形などが各地に残っている。

問8 下線部⑥の期間に欧米でおこった次のア～エの出来事を、年代の古いものから順に並べよ。

- ア アメリカでは、ワシントン率いる植民地軍がイギリス軍と戦い、「独立宣言」を発表した。
- イ イギリスでは、クロムウェルの活躍によって王政が廃止され、共和政が実現された。
- ウ 「権利の章典」が出され、イギリスの立憲君主制と議会政治が確立した。
- エ フランスで革命がおこり、革命を支持する人々によって「人権宣言」が発表された。

問9 (1) ・ (2) に入る語句を、それぞれ漢字2字で答えよ。

問10 下線部⑦について、3つの窓口をすべて答えよ。

3 次の表は、経済・社会・気象を中心として、平成時代の日本の出来事を取りあげたものである。これを見て、あとの問いに答えよ。

年	出来事
平成5年	①屋久島などが日本初の〔 X 〕として登録された。 ②記録的な冷夏となり米の凶作がおこった。
平成6年	③関西国際空港が開港した。
平成8年	④祝日として「海の日」が制定された。
平成9年	⑤地球温暖化防止京都会議が開催された。
平成10年	⑥長野冬季オリンピック、冬季パラリンピックが開催された。
平成12年	⑦携帯電話台数が固定電話台数を抜いた。
平成13年	US J が大阪にオープンした。 東京ディズニーシーがオープンした。
平成14年	サッカーワールドカップ日韓大会が開催された。
平成24年	東京スカイツリーがオープンした。
平成25年	高知県四万十で41.0℃を観測した。
平成28年	⑧日本が他の11か国とともにTPPに署名した。
平成30年	埼玉県熊谷で41.1℃を観測した。

問1 下線部①について、〔 X 〕に入る適当な語句を答えよ。また、屋久島に関して述べた次の文中の〔 a 〕・〔 b 〕に入る適当な語句を答えよ。なお、文中の〔 X 〕は表中の〔 X 〕と同じものであり、〔 b 〕には漢字4字の語句が入る。

鹿児島県の屋久島には、樹齢が1000年以上のすぎの原生林など、貴重な自然が残っている。しかし、〔 X 〕に登録されたことをきっかけに〔 a 〕に来る人が増え、木のまわりの地面がふみあらされてしまうなどの問題が生じた。このため市では、〔 b 〕と〔 a 〕業の両立に取り組んでいる。

問2 下線部②について、次の文中の〔 c 〕・〔 d 〕に入る語句の組み合わせとして**適当なもの**を、あとのア～エのうちから一つ選べ。

東北地方では米の収穫量が平年を大きく下回り、やませの影響を強く受ける東北地方の〔 c 〕側は特に米の収穫量が減ってしまった。この年は日本中が米不足に苦しみ、政府はチャオプラーヤ川が南北に流れる国〔 d 〕などから米を緊急輸入するという対応をとった。

- ア c－太平洋 d－ベトナム イ c－日本海 d－ベトナム
- ウ c－太平洋 d－タイ エ c－日本海 d－タイ

問3 下線部③について述べた次の文を読み、[e]に入る語句を答えよ。

関西国際空港は24時間利用可能な国際空港として開港し、海外の都市と航空路線で結ばれている。その一方で、ホンコン(香港)やインチョン(仁川)、シンガポールなど、アジアの大規模な国際空港との[e]空港としての地位をめぐる競争も激しくなっている。[e]空港は航空路が放射状にのびる拠点の空港である。

問4 下線部④について、この年の「海の日」は、国連海洋法条約が日本で発効(その時から効力が生じること)した日であった。国連海洋法条約で定められている排他的経済水域に関して述べた文として誤っているものを、次のア～エのうちから一つ選べ。

- ア 日本の排他的経済水域と領海を合わせた面積は世界的に広く、国土面積の10倍以上にもなる。
- イ 排他的経済水域では、沿岸国が海洋資源に主権を持ち、外国船の航行は制限されている。
- ウ 排他的経済水域は領海の外側にあり、海岸線から200海里以内の範囲である。
- エ 日本の遠洋漁業が減少したのは、世界の国々が排他的経済水域を設定したことなどが背景にある。

問5 下線部⑤について、この会議で採択された京都議定書では、温室効果ガスの削減目標が定められた。次の表は、温室効果ガスである二酸化炭素の排出量を示したものであり、表中のア～オは、日本・アメリカ合衆国・ドイツ・中国・ロシアのいずれかのものである。日本にあてはまるものをア～オのうちから一つ選べ。

	総排出量(百万トン)		1人あたり(トン)	
	1990年	2016年	1990年	2016年
ア	4,803	4,833	19.20	14.95
イ	2,164	1,439	14.59	9.97
ウ	2,122	9,102	1.86	6.57
エ	1,037	1,147	8.39	9.04
オ	940	732	11.84	8.88

(『2019/20世界国勢図会』より作成)

問6 下線部⑥について、長野県に関する次の(1)・(2)に答えよ。

(1) 次の表は、長野市および札幌市、秋田市、鳥取市のいずれかの月平均気温・降水量を示したものである。長野市と札幌市にあてはまるものを、表中のア～エのうちから一つずつ選べ。

	1月	2月	3月	4月	5月	6月	7月	8月	9月	10月	11月	12月	全年
ア	4.0	4.4	7.5	13.0	17.7	21.7	25.7	27.0	22.6	16.7	11.6	6.8	14.9
	202.0	159.8	141.9	108.6	130.6	152.1	200.9	116.6	204.0	144.1	159.4	194.0	1,914.0
イ	-3.6	-3.1	0.6	7.1	12.4	16.7	20.5	22.3	18.1	11.8	4.9	-0.9	8.9
	113.6	94.0	77.8	56.8	53.1	46.8	81.0	123.8	135.2	108.7	104.1	111.7	1,106.5
ウ	-0.6	0.1	3.8	10.6	16.0	20.1	23.8	25.2	20.6	13.9	7.5	2.1	11.9
	51.1	49.8	59.4	53.9	75.1	109.2	134.4	97.8	129.4	82.8	44.3	45.5	932.7
エ	0.1	0.5	3.6	9.6	14.6	19.2	22.9	24.9	20.4	14.0	7.9	2.9	11.7
	119.2	89.1	96.5	112.8	122.8	117.7	188.2	176.9	160.3	157.2	185.8	160.1	1,686.2

(上段は月平均気温(°C)、下段は月降水量(mm)、『2019データブック・オブ・ザ・ワールド』より作成)

(2) 次の表は、中部地方のうち長野県・富山県・山梨県・静岡県・愛知県に関する資料である。長野県と富山県にあてはまるものを、表中のア～オのうちから一つずつ選べ。

	人口密度 (人/km ²)	耕地における 田の割合(%)	農業産出額における 果実の割合(%)	電子部品・デバイス・電子回路 の出荷額(十億円)
年	※	2016年	2016年	2016年
ア	471	33.5	14.6	283
イ	248	95.6	3.3	325
ウ	184	33.3	60.2	205
エ	1,414	56.7	6.6	610
オ	153	49.5	22.6	736

(※…2018年人口と2017年面積より算出。『2019データブック・オブ・ザ・ワールド』より作成)

問7 下線部⑦について、携帯電話の代表的なものが携帯電話である。携帯電話の電池などに使われるリチウムは、高度な工業製品の生産に欠かせない金属で、採掘できる地域が限られている。このような金属を何と呼ぶか。

問8 下線部⑧について、TPP(環太平洋経済連携協定)について説明した文として適当なものを、次のア～エのうちから一つ選べ。

- ア 輸入品にかかる税金や数量に関する規制を行って、国や地域間での貿易を保護する協定であり、アメリカ合衆国は現在は参加していない。
- イ 輸入品にかかる税金をたがいになくすなどして、貿易を自由に行えるようにする協定であり、アメリカ合衆国は現在も参加している。
- ウ 輸入品にかかる税金や数量に関する規制を行って、国や地域間での貿易を保護する協定であり、アメリカ合衆国は現在も参加している。
- エ 輸入品にかかる税金をたがいになくすなどして、貿易を自由に行えるようにする協定であり、アメリカ合衆国は現在は参加していない。

問9 平成時代における日本や海外での出来事として適当でないものを、次のア～エのうちから一つ選べ。

- ア ソビエト連邦が解体し、ロシアやカザフスタンなどの国々に分かれた。
- イ 国内総生産(GDP)において、中国が日本を上回った。
- ウ 原油の価格が急騰し、第1次オイルショックがおこった。
- エ 東ドイツが西ドイツに編入され、東西ドイツが統一された。

4 次の文章を読み、あとの問いに答えよ。

1846年に天皇に即位した孝明天皇は攘夷派の人物であった。1858年に結んだ①日米修好通商条約に対して孝明天皇は勅許を出さず、幕府は無勅許状態で調印せざるを得なかった。その後、1865年に勅許が出されたが、その翌年、孝明天皇は死去し、明治天皇が即位した。

明治時代になると、②王政復古が宣言され、③様々な改革が行われた。さらに1889年、天皇が国民に与えるという形で④大日本帝国憲法が發布され、同日には皇室典範が制定された。

1912年、大正天皇が即位し、即位大典は1915年の⑤大隈重信内閣の時に行われた。大正時代には、護憲運動の発生や⑥民本主義思想の高まりを背景に、⑦普通選挙運動が活発化した。

1926年、大正天皇が死去し、昭和天皇が即位した。昭和時代に入ると、⑧軍部の力が強まり、太平洋戦争への道を突き進むこととなった。太平洋戦争では、アメリカによる都市の無差別爆撃が行われ、原子爆弾も2度投下された。1945年の夏に昭和天皇が⑨ラジオ放送で降伏することを国民に伝えた。その後、GHQによる民主主義改革が進められ、1946年には昭和天皇が人間宣言を発表した。

現上皇は2019年の4月30日に退位するまでの約30年在位し、⑩平成は日本の元号で4番目に長く続いた元号となった。現上皇の退位により、2019年の5月1日に新天皇が即位し、元号が令和と改められた。

問1 下線部①の日米修好通商条約について述べた文として適切なものを、次のア～エのうちから一つ選べ。

- ア 下田と函館の2港を開港することとなった。
- イ 外国人は日本国内で自由に居住や活動ができるようになった。
- ウ 日本で日本人に対して法を侵したアメリカ人は、アメリカの法で罰することが定められた。
- エ オランダ・ドイツ・イギリス・ロシアとも同様の内容の条約を結んだ。

問2 下線部②の王政復古が宣言された翌年、明治新政府は新たな政治方針として以下の史料の内容を定めた。この内容を説明したものとして**適当でないもの**を、あとのア～エのうちから一つ選べ。

一 広く会議ヲ興シ万機公論ニ決スヘシ
 一 上下心ヲ一ニシテ盛ニ経綸ヲ行フヘシ
 一 官武一途庶民ニ至ル迄各其志ヲ遂ケ人心ヲシテ倦マサラシメン事ヲ要ス
 一 旧来ノ陋習ヲ破リ天地ノ公道ニ基クヘシ
 一 智識ヲ世界ニ求メ大ニ皇基ヲ振起スヘシ
 我国未曾有ノ変革ヲ為ントシ、朕躬ヲ以テ衆ニ先ンシ、天地神明ニ誓ヒ、大ニ斯国是ヲ定メ、万民保全ノ道ヲ立ントス。衆亦此旨趣ニ基キ、協心努力セヨ。

- ア 会議を開き、人々の意見をまとめて政治を行うべきだとされている。
- イ 幕末の攘夷運動を否定し、国際法を守っていくことを示している。
- ウ 日本の発展のために知識を世界に求めるとし、キリスト教の信仰も認めている。
- エ この史料は五箇条の御誓文とよばれ、天皇が神々に誓う形式で出されている。

問3 下線部③について、改革の一部である次のア～エの4つの出来事を、年代の古いものから順に並べよ。

- ア 琉球藩を廃止して沖縄県を設置した。
- イ 全国の藩を廃止し、かわりに府・県を設置する廃藩置県を行った。
- ウ 土地と人民を天皇に返す版籍奉還を行った。
- エ 満20歳以上の男子から徴兵を行うという徴兵令を發布した。

問4 下線部④について、大日本帝国憲法の中では、天皇と国民の関係や、国民の権利について述べられている。それらに関して説明した次の文の空欄 [a]・[b] に適切な語句を入れよ。

国民は天皇の「[a]」とされ、言論・出版・集会・結社・信教は「[b]の範囲内」において自由とされた。

問5 下線部⑤の大隈重信について説明した文X～Zについて、その正誤の組み合わせとして適切なものを、あとのア～カのうちから一つ選べ。

- X 外務大臣として、関税自主権の回復に成功した。
 - Y 帝国議会開設にそなえて立憲改進黨を結成した。
 - Z 初めての本格的な政党内閣を組織し、「平民宰相」と呼ばれた。
- ア X-正 Y-正 Z-誤 イ X-正 Y-誤 Z-正
 ウ X-正 Y-誤 Z-誤 エ X-誤 Y-正 Z-正
 オ X-誤 Y-正 Z-誤 カ X-誤 Y-誤 Z-正

問6 下線部⑥について、この民本主義を唱えた代表的な人物を、次のア～エのうちから一つ選べ。

- ア 吉野作造 イ 平塚らいてう ウ 田中正造 エ 美濃部達吉

問7 下線部⑦について、この運動の結果1925年に普通選挙法が成立するが、成立した時の首相の名前と、同年に出された共産主義や社会主義に対する取り締まりの強化を目的に制定された法律名をそれぞれ答えよ。

問8 下線部⑧に関連して、この時期におこった出来事に関して説明した文X～Zについて、その正誤の組み合わせとして適切なものを、あとのア～カのうちから一つ選び記号で答えよ。

- X 海軍の青年将校らが当時の首相を殺害する二・二六事件がおきた。
 - Y 国際連盟が満州国を認めなかったため、日本は国際連盟を脱退した。
 - Z 国民や物資を優先して戦争にまわすことができるように、国家総動員法が定められた。
- ア X-正 Y-正 Z-誤 イ X-正 Y-誤 Z-正
 ウ X-正 Y-誤 Z-誤 エ X-誤 Y-正 Z-正
 オ X-誤 Y-正 Z-誤 カ X-誤 Y-誤 Z-正

問9 下線部⑨について、このとき日本が受け入れた宣言の名前を答えよ。

問10 下線部⑩について、次の出来事のうち平成時代におきたものを、次のア～エのうちから一つ選べ。

- ア 消費税導入 イ 日中国交正常化 ウ ベトナム戦争 エ 沖縄の日本復帰

5 2030年に向けての持続可能な開発のための具体的目標である「SDGs(エスディージーズ)」が、2015年の国連総会において採択された。下のパネルは、SDGsに掲げられた17のグローバル目標を示したアイコンをまとめたもの(国際連合広報センターホームページより転載)である。以下の問いに答えよ。



問1 目標1「貧困をなくそう」に関連して、発展途上国の経済発展と生活向上を目的に行う日本のODA(政府開発援助)について述べた文として誤っているものを、次のア～エのうちから一つ選べ。

- ア ODAによる資金提供は、1991年以降10年連続で世界第1位の実績を残した。
- イ 二国間ODAには、円借款等の有償資金援助と贈与等の無償資金援助がある。
- ウ 青年海外協力隊員の派遣や研修員の受け入れはODAの一環として行われている。
- エ 二国間ODAの地域別実績をみると、現在はアフリカの割合が最大となっている。

問2 目標4「質の高い教育をみんなに」に関連して、教育・科学・文化の発展と推進を目的とした国連の専門機関として正しいものを、次のア～エのうちから一つ選べ。

- ア UNESCO
- イ WHO
- ウ UNICEF
- エ ILO

問3 目標5「ジェンダー平等を実現しよう」に関連して、男女が社会の対等な構成員としてあらゆる分野における諸活動に参画できるよう、日本で1999年に公布・施行された法律の名称を答えよ。

問4 目標6「安全な水とトイレを世界中に」に関連して、「緑の大地計画」の下、アフガニスタンで井戸を掘り長大な農業用水路の建設に尽力している日本のNGO(非政府組織)の名称として正しいものを、次のア～エのうちから一つ選べ。

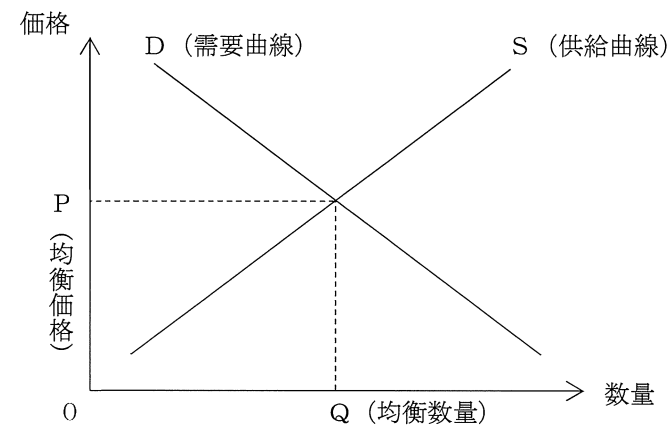
- ア 赤十字社
- イ ペシャワール会
- ウ 国境なき医師団
- エ アムネスティ・インターナショナル

問5 目標8「働きがいも経済成長も」に関連して、労働問題の用語について述べた文章の正誤の組み合わせとして正しいものを、次のア～エのうちから一つ選べ。

- ① 仕事を分け合い、労働者間の業務量のバランスをとることをワーク・ライフ・バランスという。
- ② 非正規労働者を中心に、低賃金で生活が苦しい状態にある働く貧困層をワーキングプアという。

- ア ①-正 ②-正
- イ ①-正 ②-誤
- ウ ①-誤 ②-正
- エ ①-誤 ②-誤

問6 目標9「産業と技術革新の基盤をつくろう」に関連して、以下の図は、ある財の完全競争市場におけるD(需要曲線)とS(供給曲線)を示したものである。この財を生産する業界で技術革新が進行した場合、そのことによって生じる変化(移動曲線・方向・価格)の組み合わせとして正しいものを、表のア～エのうちから一つ選べ。



	移動曲線	方向	価格
ア	D(需要曲線)	右上	上昇
イ	D(需要曲線)	左下	下落
ウ	S(供給曲線)	左上	上昇
エ	S(供給曲線)	右下	下落

問7 目標10「人や国の不平等をなくそう」に関連して、現在、世界では富裕層と貧困層との所得格差が広がっていないほどの広がりをみせている。所得格差の拡大を抑える政策として不適切なものを、次のア～エのうちから一つ選べ。

- ア 累進税率を低くする。
- イ 生活保護費を増額する。
- ウ 就労支援を拡充する。
- エ 最低賃金を引き上げる。

問8 目標14「海の豊かさを守ろう」に関連して、スイスのダボスに本拠地を置く世界経済フォーラムは、世界の海を漂う海洋[X]ごみの量が、2050年までに魚の量を上回るという予測を発表している。右の図を参考にしながら、[X]に入る適切な用語を答えよ。また、海洋[X]ごみを減らすために私たちが日常生活の中で出来ることを、10字以上20字以内で述べよ。

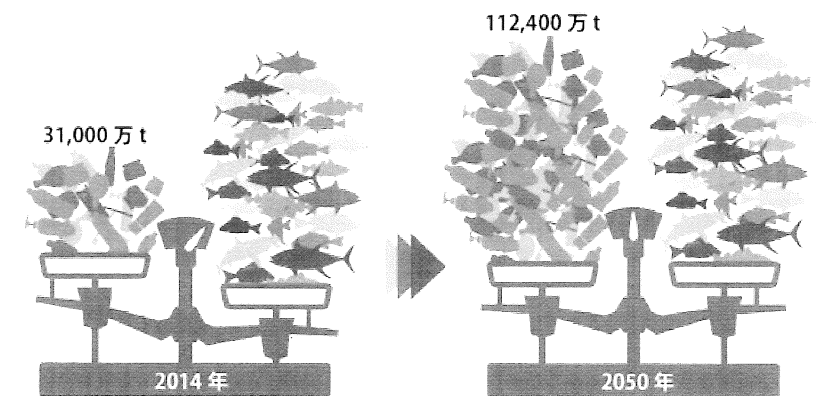


図 海洋[X]ごみと魚の量の比較
WWF(世界自然保護基金) ジャパンHPより転載

問9 目標16「平和と公正をすべての人に」に関連して、平和と公正を実現しようとする国内外の動向や制度について述べた文として正しいものを、次のア～エのうちから一つ選べ。

- ア 核拡散防止条約(核兵器不拡散条約)は、爆発を伴うあらゆる核実験を禁止している。
- イ 裁判員制度は、殺人や放火など重大な刑事事件の裁判でのみ実施をしている。
- ウ 世界人権宣言は、人権の世界基準を示した国際人権規約に法的拘束力を与えている。
- エ 無罪判決を受けた人は、身柄を拘束された事実に対して国家賠償請求権を行使できる。