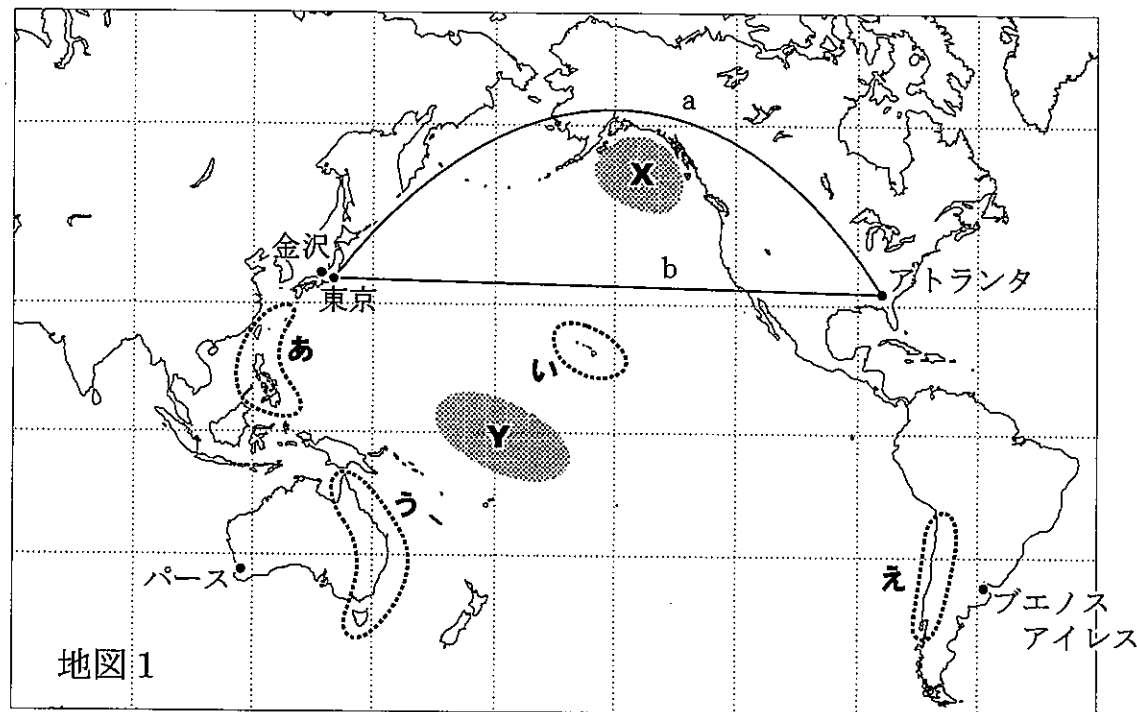


平成31年度 弘学館入学試験
高等学校 社会問題

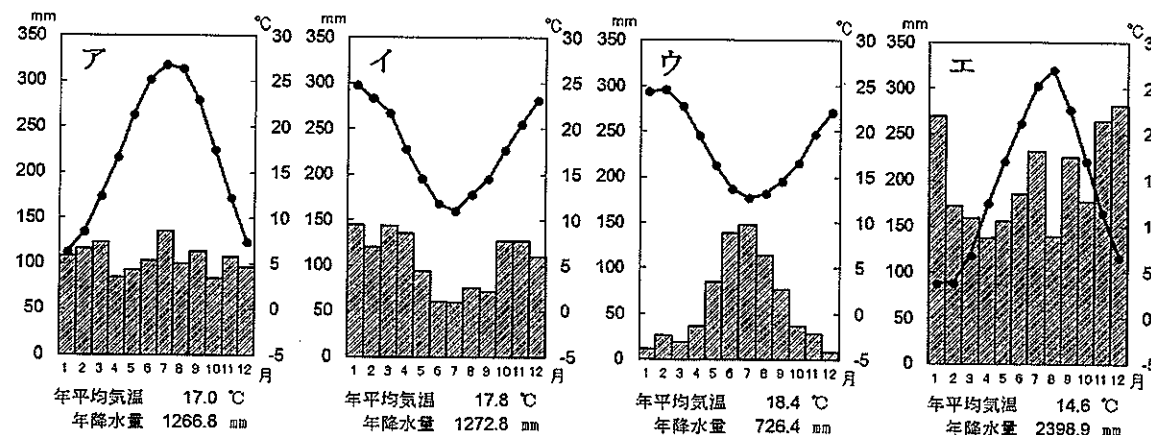
1 次の地図1は、太平洋沿岸をとりかこむ地域をメルカトル図法で示したものである。これを見て、あとの問いに答えよ。



(緯線・経線を30度ごとに示している)

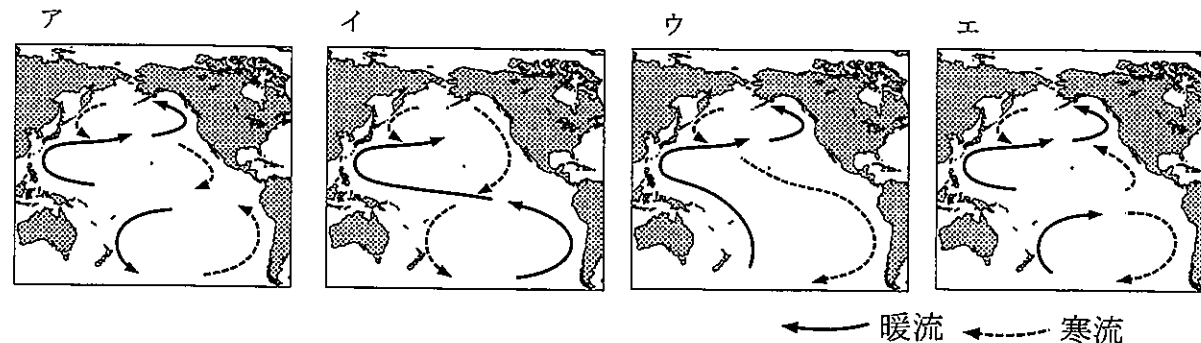
問1 地図1中に示したあ～えのうち、地震・火山の災害が最も少ないと考えられる場所はどこか。あ～えのうちから一つ選べ。

問2 次のグラフは、地図1中の金沢、パース、アトランタ、ブエノスアイレスのいずれかの気温と降水量を示したものである。ブエノスアイレスにあてはまるグラフを、ア～エのうちから一つ選べ。



(帝国書院 『地理統計 2018年版』より作成)

問3 太平洋における海流の流れ方を示した図として正しいものを、次のア～エのうちから一つ選べ。



問4 次の文中の〔 A 〕・〔 B 〕に入る語句を、あとのア～エのうちから一つずつ選べ。また、(C)・(D)に入る語句を漢字で答えよ。

地図1中の X の海域では、主にカニや〔 A 〕が漁獲され、また Y の海域では〔 B 〕などが漁獲される。いずれも、昔は日本の港から冷凍設備をそなえた漁船が出漁し、長い場合は数ヶ月かけて漁獲する(C)漁業が盛んであったが、現在は各国が沿岸から200海里までを(D)水域〔略称EEZ〕に設定し、外国船の漁を規制したことで、現地で漁獲されたものを輸入する体制への切りかえが進んでいる。

- ア うなぎ イ さけ ウ たい エ まぐろ

問5 地図1中 Y 付近の島国のいくつかでは、ある地球環境問題の影響で、国土の大半が失われるような被害を受けるおそれがある。その環境問題とは何か、漢字5文字で答えよ。

問6 地図1を見て、次の文のうち、内容が誤っているものをア～エのうちから一つ選べ。

- ア 東京からアトランタに飛行機で向かう場合、bよりもaのコースが実際の距離が短い。
- イ 東京からアトランタを飛行機で往復すると、通常東京へ帰る時の方が飛行時間が長い。
- ウ 東京からほぼ真東の方角に進むと、アトランタではなく、ブエノスアイレスの近くを通る。
- エ 東京が1月6日14時のとき、アトランタの現地時間は1月6日22時である。

問7 次の表は、日本とオーストラリアの主な貿易品目を示したものである。これを見てあとの(1)・(2)に答えよ。なお〔 E 〕は日本の総輸出額に占める割合が最も大きい工業製品、〔 F 〕の原料は、日本の総輸入額に占める割合が最も大きな資源、〔 G 〕はオーストラリアから主に輸入される〔 H 〕・〔 J 〕を燃料または原料として生産される製品である。

オーストラリアへの輸出		オーストラリアからの輸入	
〔 E 〕	44.7%	〔 H 〕	36.7%
〔 F 〕	14.4%	〔 I 〕	27.9%
機械類	13.0%	〔 J 〕	12.8%
タイヤ類	2.9%	肉類	4.8%
〔 E 〕部品	2.2%	銅	2.7%
〔 G 〕	1.2%	アルミニウム	2.1%
合計	1兆7956億円	合計	4兆3650億円

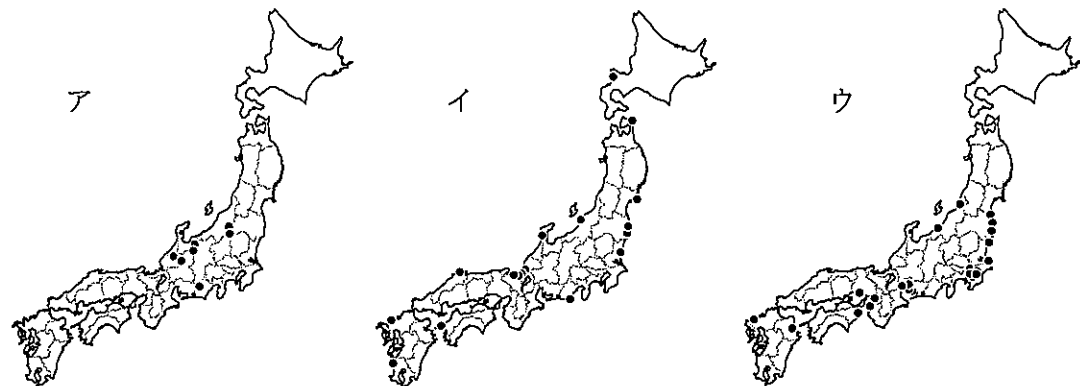
(統計年次は2017年。『日本国勢図会 2018/19』より作成)

(1) 次の図は、表中の〔E〕～〔G〕のいずれかの工場の分布を示している。〔E〕・〔G〕の製品がそれぞれ何かを答えよ。



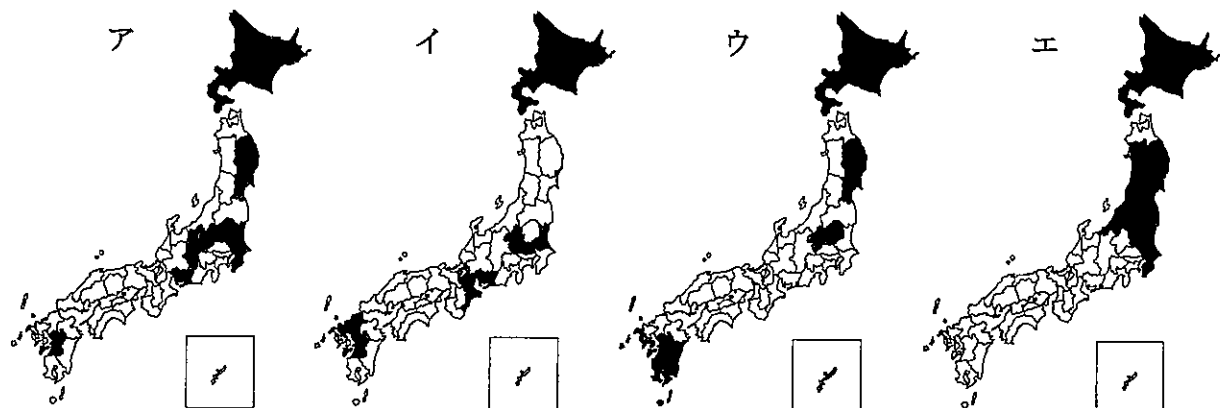
〔日本国勢図会 2018/19〕より作成

(2) 表中の〔H〕・〔I〕は、いずれも重要なエネルギー資源である。次の図ア～ウは、それぞれ日本における主な発電法3つのうちいずれかの発電所（一定以上の大規模な出力のもの。停止中のものも含む）の分布を示している。主に〔H〕や〔I〕を利用したエネルギーによる発電所を示したものを、ア～ウのうちから一つ選べ。また、〔H〕のエネルギー資源が何かを答えよ。



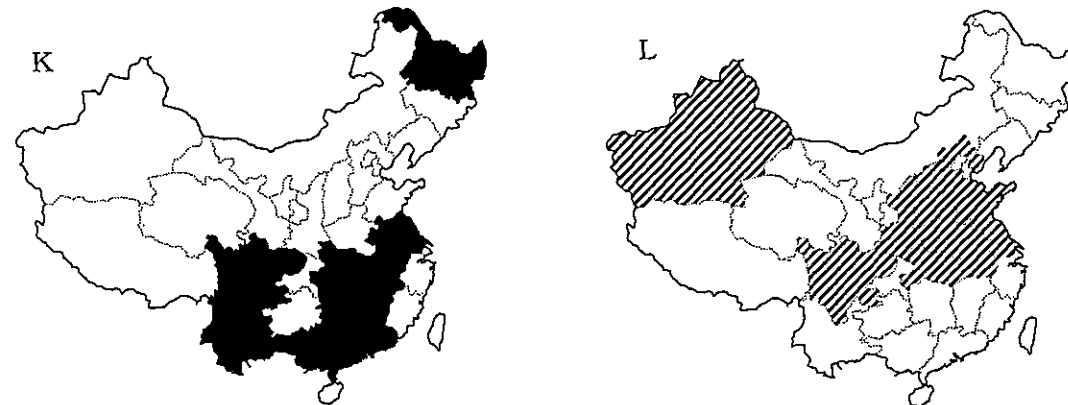
〔日本国勢図会 2018/19〕より作成

問8 次のア～エは、米、小麦、肉牛、乳牛のいずれかについて、日本における生産量または飼育頭数の上位の都道府県を示したものである。これらに関連して、あとの(1)・(2)に答えよ。



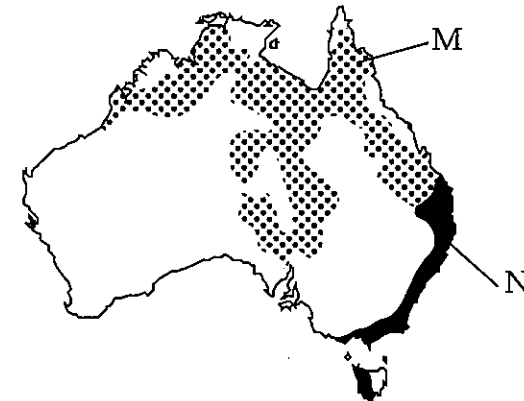
(■…1～5位、■…6～10位、統計年次は2015年。『2018 データブック・オブ・ザ・ワールド』より作成)

(1) 次の地図K・Lは、中国における米または小麦の主要生産地を示したものである。Lが示す作物の日本の主産地を示したものを、先のア～エのうちから一つ選べ。

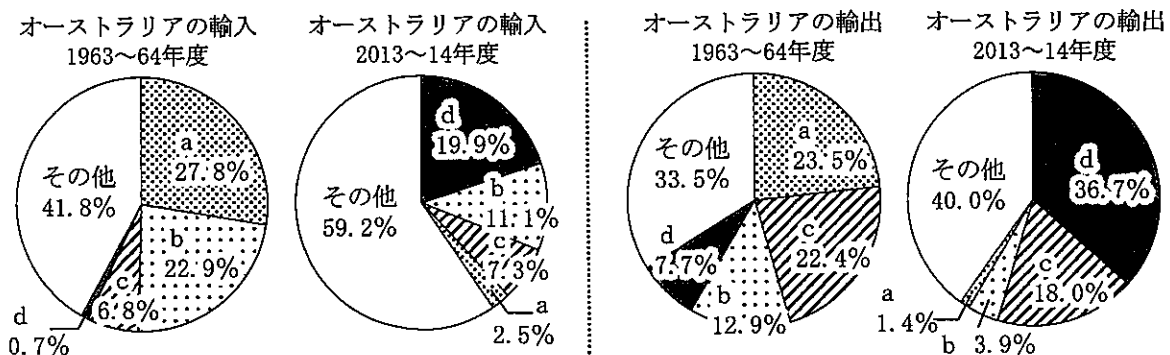


(それぞれ生産上位10位までの省・自治区。『2018 データブック・オブ・ザ・ワールド』より作成)

(2) 次の地図のM・Nは、オーストラリアにおける肉牛または乳牛の主な飼育地を示したものである。Nの地域で飼育されている牛の日本の主な飼育地を示したものを、先のア～エのうちから一つ選べ。



問9 次のグラフは、1963～64年度と、その50年後の2013～14年度のオーストラリアの主要な貿易相手国と、輸出入総額に占める割合を示している。グラフ中のa～dには、あとのア～エのいずれかの国があてはまる。a・cにあてはまる国をそれぞれ一つずつ選んで、ア～エの記号で答えよ。



(オーストラリア政府外務・貿易省『Composition of trade Australia 2013-14』より作成)

ア 日本 イ 中国 ウ アメリカ エ イギリス

問10 次の文を読んで、あとの(1)～(3)に答えよ。

オーストラリアはかつて、白人以外の移民を受け入れない白豪主義という政策をとっていたが、1975年からこれを改め、様々な言語や文化の国からの移民を受け入れ、共存できる社会を目指すようになった。この考え方を〔O〕主義、または〔O〕社会という。

また、アジアを含む太平洋沿岸の諸国が、政治的対立を乗り越えて経済や国際協力について毎年話し合う〔P〕は、1989年に当時のオーストラリアの首相の提案で始まったものであり、2018年11月にはパプアニューギニアで首脳会議・閣僚会議が開催された。

(1) ヨーロッパ系の移民が多数を占めるようになる以前から、オーストラリア大陸で狩猟・採集を中心とした生活を送ってきた先住民を何と呼ぶか。

(2) 文中の〔O〕・〔P〕に入る語句を答えよ。〔P〕はアルファベットの略称で答えよ。

(3) このような政策の転換には、どういった経済的背景があると考えられるか。問9のグラフから読み取られる変化もヒントにして、次の語句を必ず用いて説明せよ。

貿易相手国 アジア 観光

問11 東南アジア各国の国名と、その国で最も信者が多い宗教の組み合わせとして誤っているものを、次のア～エのうちから一つ選べ。

- ア タイ…仏教 イ インドネシア…イスラーム教
- ウ マレーシア…ヒンドゥー教 エ フィリピン…キリスト教

2 次の文(1)～(3)を読んで、あとの問いに答えよ。

(1) 中国で、儒教のもととなる教えを説いた〔あ〕が活動したのは、紀元前のことである。中国は戦乱の時代であり、乱れた政治や社会をどのように治めるかを説く思想家が多く現れた時代でもあった。思いやりの心(仁)を説く儒教(儒家思想)は、力を競い合う戦乱の世にはあまり注目されなかったが、最初に中国を統一した〔X〕を経て、漢が大帝国を築き、安定した国づくりを進める段階に入ると、政治にたずさわる者の道徳として重視されるようになった。

(2) 日本に儒教が伝えられたのは、①仏教の伝来とほぼ同じころであると考えられている。ともに、日本と友好関係にあった朝鮮半島の〔Y〕から伝えられた。②聖徳太子(厩戸王)が定めたとされる憲法十七条には、役人の心構えとして仏教や儒教の思想が取り入れられている。③律令制度では、儒教は大学で学ぶ科目の一つと位置づけられており、④平安時代の貴族にとっても、中国の文学や歴史とともに儒教を学ぶことは大切な教養とされた。

(3) 儒教を学ぶ学問を儒学とよぶ。儒学にはいくつもの学派があるが、中国の宋(南宋)の時代に成立した〔い〕学は、鎌倉時代に日本に伝えられ、⑤鎌倉～室町時代には幕府の保護を受けた禅宗寺院の中でさかんに研究が行われた。もとより儒教は、親に対する「孝」、友に対する「信」など、人間関係の秩序を説く教えであるが、とくに〔い〕学は、⑥若臣という上下関係の秩序を重んじるため、江戸時代には幕府の正式な学問とされた。

問1 (1)では紀元前数百年から紀元前1世紀ごろまでの中国の様子が述べられているが、このころの日本(日本列島)について述べた次の文a～dについて、正しいものの組み合わせを、あとのア～エのうちから一つ選べ。

- a 大陸から九州北部に稲作が伝えられ、弥生文化とよばれる稲作文化が西日本から東北地方にまで広がった。
- b 鉄製の武器や農具をつくる技術が伝えられ、鉄を産出する朝鮮半島とのつながりをもつヤマト政権が支配を拡大した。
- c 漢の歴史書によると、「倭」とよばれた日本は百あまりの小国に分かれており、その中には、朝鮮半島を通じて皇帝に使者を送る国もあった。
- d 漢の歴史書によると、「倭」とよばれた日本では、邪馬台国の女王卑弥呼が多くの小国をしたがえ、皇帝に使者を送って王の称号が刻まれた印を授けられた。

- ア aとc イ aとd ウ bとc エ bとd

問2 空欄〔あ〕に入る人名を答えよ。

問3 下線部①に関連して、仏教の伝来とともに日本初の仏教文化が成立した。法隆寺の金堂・五重塔などの建築や、広隆寺の弥勒菩薩像などの仏像に代表されるこの文化を何とよぶか。

問4 空欄〔X〕・〔Y〕に入る国名の組み合わせとして正しいものを、次のア～エのうちから一つ選べ。

- ア X…殷 Y…百済 イ X…殷 Y…新羅
- ウ X…秦 Y…百済 エ X…秦 Y…新羅

問5 下線部②について、聖徳太子は理想的な政治を行った人物と伝えられているが、現在は、その業績とされていることが事実であったかどうかを見直す研究が進められている。太子の時代に実際に政治に深く関わっていたと考えられる有力豪族は何氏か答えよ。

問6 下線部③について、日本の律令制度について述べた文として誤っているものを、次のア～エのうちから一つ選べ。

- ア 日本の律令は、唐の律令を参考にしてつくられた。律は刑罰に関する法であり、令は行政に関する法である。
- イ 律令の制定準備は、7世紀の天智天皇や天武天皇の時代から始められ、8世紀の初め、大宝律令として完成した。
- ウ 律令により班田収授の制度が定められた。6年ごとに戸籍が作成され、戸籍にもとづき6歳以上の男女に口分田が与えられた。
- エ 律令により税制も定められた。男子に比べ、女子は税の負担が重かったため、女性を男性として戸籍に登録し、負担を逃れようとする者が現れた。

問7 下線部④について、平安時代の貴族について述べた次の文a～dについて、正しいものの組み合わせを、あとのア～エのうちから一つ選べ。

- a 一部の高級貴族は、天皇の娘と結婚して次の天皇となり、その立場を利用して一族で高い位や官職を独占した。このような政治の形態を摂関政治とよぶ。
- b 地方の政治は国司にまかせられたため、中央政府での出世が期待できない中下級貴族は、収入を増やすことを目的に国司の職を希望し、不正を行う者も現れた。
- c 遣唐使の廃止後は日本独自の文化が生まれた。貴族の住居の様式は書院造とよばれ、現在の和風住宅の原型となった。銀閣は、そのような様式を伝える建築物の一つである。
- d 貴族の間には、阿弥陀仏にすがって念仏をととなえ、死後に極楽浄土に往生することを願う浄土信仰が流行した。平等院鳳凰堂は、そうした信仰のために建てられた建築物の一つである。

- ア aとc イ aとd ウ bとc エ bとd

問8 空欄 [い] に入る語句を答えよ。

問9 下線部⑤に関連して、この時代の出来事を述べた文Ⅰ～Ⅲについて、古いものから年代順に正しく配列したものを、あとのア～カのうちから一つ選べ。

- Ⅰ 二度にわたる元寇があり、御家人らが命がけで戦った。
- Ⅱ 農民が徳政令の発布を求める徳政一揆が初めて起こった。
- Ⅲ 幕府が永仁の徳政令を発した。

- ア Ⅰ－Ⅱ－Ⅲ イ Ⅰ－Ⅲ－Ⅱ ウ Ⅱ－Ⅰ－Ⅲ
 エ Ⅱ－Ⅲ－Ⅰ オ Ⅲ－Ⅰ－Ⅱ カ Ⅲ－Ⅱ－Ⅰ

問10 下線部⑥に関連して、江戸幕府は、戦乱が終わり軍役という形で大名が将軍に奉公することがなくなると、諸大名にあることを義務づけて上下関係の秩序を保とうとした。大名に大きな出費を強制することにもなったこの義務とは何か。

3 次の文(1)・(2)を読んで、あとの問いに答えよ。

(1)

幕末の動乱を経て成立した明治政府は、天皇中心の中央集権国家を志向し、五箇条の御誓文を発布して以降、①政治・経済・文化などあらゆる面での近代化政策を進めた。その過程で、個人主義や天赋人權論などの思想が日本に流入すると、国内では②欧米の市民革命の流れをくむ自由民権運動が始まった。これに対し、政府は民権運動を弾圧する一方、立憲政体樹立の準備を進め、③1889年には大日本帝国憲法を発布して、翌年には第一回帝国議会を開催した。

外交政策では、アジアに対しては国権外交を、欧米に対しては条約改正交渉を進めた。対アジア外交では、④琉球や朝鮮をめぐる清と対立し、1894年には日清戦争が勃発した。さらに戦後は満州や朝鮮をめぐるロシアとも対立し、1904年には日露戦争が起こった。そして、この二つの戦争に勝利したことで日本は列強入りを果たし、1910年には⑤韓国を併合して、翌年には条約改正を達成した。

問1 下線部①について、明治時代初期の近代化政策について述べた文として正しいものを、次のア～エのうちから一つ選べ。

- ア 政府は初等教育を重視して学制を公布し、6歳以上のすべての男女に小学校教育を受けさせることと定め、義務教育に関しては無償とした。
- イ 軍制では徴兵令を発布して満18歳以上のすべての男子に兵役を課したが、多くの免除規定があり、実際に徴兵されたのは農家の長男が中心であった。
- ウ 税制では地租改正が行われ、税率を地価の3%として現金で納税させたが、これによって農民の負担は軽減され、政府の財政収入も安定した。
- エ 生活の面では欧米と同じ太陽暦が導入され、1日を24時間、1週間を7日とすることとなったが、農村では従来の暦も使われた。

問2 下線部②について、次の史料は18世紀に欧米で発生した市民革命に関する史料を要約したものである。2つの史料に共通して入る [A]・[B]の語句を答えよ。

〈アメリカ独立宣言〉

我々は以下のことを真理であると信じる。すべての人は [A] につくられ、神によって生まれながらの権利を与えられていること。その中には、生命、[B]、幸福の追求が含まれていること。

〈フランス人権宣言〉

第一条 人は生まれながらに、[B]で [A]な権利を持つ。社会的な区別は、ただ公共の利益に関係のある場合にしか、設けてはならない。

問3 下線部③について、次の史料は、憲法発布に際して民権派の植木枝盛らが執筆した『土陽新蘭』の論説の一部を現代語訳したものと、大日本帝国憲法の条文の一部である。民権派がこのような反応をした理由を、大日本帝国憲法の条文を参考にして説明せよ。

(土陽新蘭の現代語訳)

ああ憲法よ、おまえはすでに生まれている。私はこれを祝う。すでにおまえが生まれたことを祝っているのだから、さらにおまえの成長を祈らないわけにはいかない。

(大日本帝国憲法)

第三十三条 帝国議会ハ貴族院衆議院ノ両院ヲ以テ成立ス

第三十五条 衆議院ハ選挙法ノ定ムル所ニ依リ公選セラレタル議員ヲ以テ組織ス

問4 下線部④について、琉球・朝鮮をめぐる明治時代の日清対立について述べた文として誤っているものを、次のア～エのうちから一つ選べ。

ア 琉球問題の原因は、江戸時代以来、琉球王国が薩摩藩の支配を受ける一方、清に朝貢する日清両属の状態となっていたことに端を発する。

イ 日本政府は、琉球処分を進めて1879年に沖縄県を設置したが清はこれを認めず、最終的に日本の領有権が承認されるのは日清戦争後であった。

ウ 日本は日朝修好条規で「朝鮮国は自立した国であり、日本国と平等の権利を持っている」として清の宗主権を否定し、朝鮮と対等な条約を結んで清に対抗しようとした。

エ 下関条約で「清国は朝鮮国の完全無欠なる独立自主の国たることを確認す」と規定され、清の朝鮮に対する宗主権は完全に否定された。

問5 下線部⑤について、韓国併合後、植民地統治を行うために現在のソウルに設置された機関を答えよ。

(2)

1914年から始まった第一次世界大戦は、元老井上馨が「日本国運の発展に対する大正新時代の天祐」と評したように、⑥日本を大きく成長させる契機となった。しかし、日本の大陸進出は、⑦アジアの民族運動を激化させてアメリカの対日警戒感を煽ったため、大戦後の日本は国際協調を進めた。

大正後期から昭和初期にかけて中国で国権回復運動がおこり、国内が相次いで恐慌に見舞われると軍部を中心に大陸進出の動きが再燃し、⑧1932年におきた事件によって政党政治は途絶えて軍国主義の傾向が強まった。そして、1937年に日中戦争が始まると、日本は長期の戦争に突入り、その戦争によって日本やアジア諸国は大きな傷を負った。

敗戦後、日本では⑨GHQ主導で民主化政策が進められ、新憲法が制定されて政党政治も復活した。その後、冷戦が激しくなるとGHQの占領政策は経済復興重視へと転換され、さらに朝鮮戦争を契機に1951年には⑩サンフランシスコ平和条約が締結され、日本は独立を回復した。

問6 下線部⑥について、第一次世界大戦期の日本について述べた文として誤っているものを、次のア～エのうちから一つ選べ。

ア 日本は大戦が始まると、日英同盟を理由にして連合国側で参戦した。

イ 中国の袁世凱政権に対して二十一か条の要求を突き付け、日本の利権を拡大しようとした。

ウ アジア諸国との貿易が拡大し、輸出額が輸入額を上回って貿易額も赤字から黒字になった。

エ 明治期以来の産業革命の結果、農業生産額が工業生産額を上回った。

問7 下線部⑦について、アジアの反日運動とアメリカの対日政策に関する次の文a・bの正誤の組み合わせとして正しいものを、あとのア～エのうちから一つ選べ。


a 朝鮮では、日本の植民地支配に反対した民衆が五・四運動を起こした。

b アメリカは、日本の勢力拡大を抑えようとして、1921年にワシントン会議を開催した。

ア a…正 b…正 イ a…正 b…誤

ウ a…誤 b…正 エ a…誤 b…誤

問8 下線部⑧について、この事件を報道した新聞を、次のア～エのうちから一つ選べ。



問9 下線部⑨について、GHQの民主化政策について述べた文として誤っているものを、次のア～エのうちから一つ選べ。

ア 選挙権を与えられる年齢が20歳に引き下げられ、婦人参政権も認められた。

イ 経済を民主化するために農地改革が行われ、自作農が大幅に増加した。

ウ 教育の民主化を進めるために、教育基本法が制定された。

エ 労働組合法によって、日本で最初の労働組合が結成される事となった。

問10 下線部⑩について、サンフランシスコ平和条約とそれに関連することについて述べた文として正しいものを、次のア～エのうちから一つ選べ。

- ア この条約を調印した首相は吉田茂で、アメリカやソ連などの連合国48か国と結んだ。
- イ この条約と同時に、米軍の日本駐留などを規定する日米安全保障条約が調印された。
- ウ この条約が調印されると同時に、奄美諸島や小笠原諸島が日本に返還された。
- エ この条約に調印しなかった中華人民共和国とは、現在まで正式な平和条約が結ばれていない。

4 次の日本国憲法の一部を読んで、あとの問いに答えよ。

- ・第9条
 - [1]日本国民は、正義と秩序を基調とする国際平和を誠実に希求し、国権の発動たる戦争と、武力による威嚇又は武力の行使は、国際紛争を解決する手段としては、永久にこれを（A）する。
 - [2]前項の目的を達するため、陸海空軍その他の（B）は、これを保持しない。国の交戦権はこれを認めない。
- ・第13条

すべて国民は、個人として尊重される。生命、自由及び幸福追求に対する国民の権利については、①公共の福祉に反しない限り、立法その他の国政の上で、最大の尊重を必要とする。
- ・第25条
 - [1]すべて国民は、健康で文化的な最低限度の生活を営む権利を有する。
 - [2]国は、すべての生活部面について、②社会福祉、社会保障及び公衆衛生の向上及び増進に努めなければならない。
- ・第26条
 - [1]すべて国民は、法律の定めるところにより、その能力に応じて、ひとしく教育を受ける権利を有する。
 - [2]すべて国民は、法律の定めるところにより、その保護する子女に普通教育を受けさせる義務を負ふ。義務教育は、これを無償とする。
- ・第27条
 - [1]すべて国民は、勤労の権利を有し、義務を負ふ。
 - [2]賃金、就業時間、休息その他の勤労条件に関する基準は、法律でこれを定める。
 - [3]児童は、これを酷使してはならない。
- ・第30条

国民は、法律の定めるところにより、（C）の義務を負ふ。
- ・第92条

地方公共団体の組織及び運営に関する事項は、③地方自治の本旨に基づいて、法律でこれを定める。
- ・第93条
 - [1]地方公共団体には、法律の定めるところにより、その議事機関として議会を設置する。
 - [2]地方公共団体の長、その議会の議員及び法律の定めるその他の吏員は、その地方公共団体の住民が、直接これを選挙する。

問1 文中の（A）・（B）に入る語句を答えよ。

問2 憲法に明記されていないが、第13条や第25条などを根拠に認められるようになった「新しい人権」にあてはまらないものを、次のア～エのうちから一つ選べ。

- ア 裁判で自己に不利益な供述を拒否する権利
- イ 無断で自分の姿を撮影・商業利用されない権利
- ウ 国や地方公共団体に情報公開を求める権利
- エ 重病になったときに治療方法などを自分で決定する権利

問3 下線部①について、「公共の福祉」に反する行為について述べた次の文を読んで、〔I〕～〔III〕に入る語句を答えよ。なお、〔I〕にはカタカナの語句が入る。

いくつかの企業が協定を結び、製品の価格を一定の水準以上に維持する行為は〔I〕とよばれる。〔I〕は企業の努力をさまたげるだけでなく、消費者の利益をそこない、経済を停滞させることになる。企業の健全な競争を維持するための法律が、1947年に定められた〔II〕である。そして、この法律を実際に運用して、〔I〕などを監視する機関としてつくられたのが、〔III〕である。

問4 下線部②について述べた文として正しいものを、次のア～エのうちから一つ選べ。

- ア 公的介護とは、働くことが困難な人々に対して、収入の保障や支援のサービスをするしくみである。
- イ 社会福祉とは、事業主が保険料を積み立てておき、加入者が必要なとき給付を受けるしくみである。
- ウ 社会保険とは、国民の健康増進をはかり、感染症などの予防をめざすしくみである。
- エ 公的扶助とは、収入が少なく、最低限度の生活を営めない人に、生活費などを給付するしくみである。

問5 第26条・第27条の内容は、いずれも国家に対して積極的な権利の保障を求めるものである。基本的人権のうち、このような権利を何というか。解答欄にあうように漢字2字で答えよ。

問6 文中の（C）には、憲法で定められている国民の三大義務のうちの一つが入る。あてはまる語句を答えよ。

問7 下線部③について、地方自治が「民主主義の学校」とよばれている理由を、解答欄にあう形で答えよ。